

Finishing Test



しあげのテスト

クラス	名 まえ	
		男
		女

とく 得	てん 点	はい 計

100		てん

1 つぎの もんだいに こたえなさい。

〈5点×5=25点〉

1 つぎの かずを すうじて かきなさい。

(1) さんじゅうご

こたえ

(2) はちじゅう

こたえ

2 つぎの □に はいる かずを すうじて かきなさい。

(1) 10が 1こと 1が 1こを あわせた かずは 。

(2) 十のくらいが 7, 一のくらいが 3の かずは 。

(3) 94の 十のくらいの かずは 。

1 5点×	正答数	得点
	<input type="text"/>	<input type="text"/>

大問連番1

2 つぎの もんだいに こたえなさい。

〈5点×5=25点〉

1 おおきいほうの かずの () に ○を かきなさい。

(1)

43
()

34
()

(2)

10
()

100
()

2 かずが じゅんばんに ならんで います。 □に はいる かずを かきなさい。

(1)

62	—	63	—	64	—	65	—	□	—	67
----	---	----	---	----	---	----	---	---	---	----

(2)

20	—	30	—	□	—	50	—	60	—	70
----	---	----	---	---	---	----	---	----	---	----

(3)

88	—	86	—	84	—	□	—	80	—	78
----	---	----	---	----	---	---	---	----	---	----

2 5点×	正答数	得点
	大問連番2	

3 つぎの けいさんを しなさい。

<5点×4=20点>

1 $3 + 5 =$


2 $12 - 8 =$

3 $60 + 40 =$


4 $75 - 5 =$

4 なんじなんぷんですか。

<5点×2=10点>



こたえ じ ぶん



こたえ じ ぶん

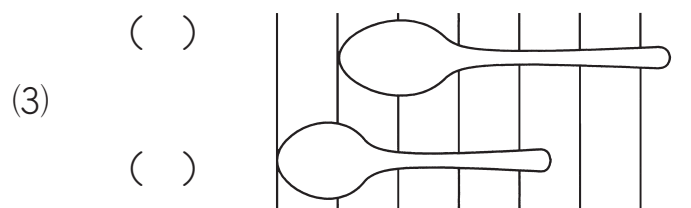
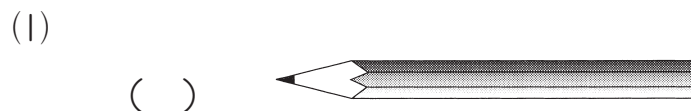
3	正答数	得点
5点×	<input type="text"/>	大問連番3

4	正答数	得点
5点×	<input type="text"/>	大問連番4

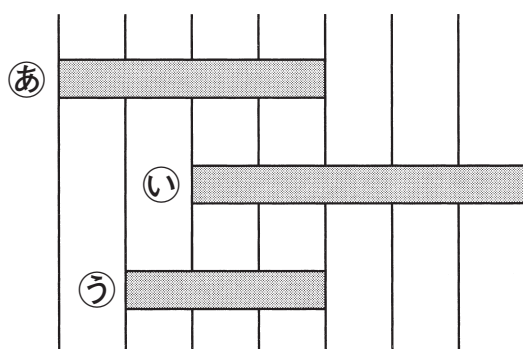
5 つぎの もんだいに こたえなさい。

<5点×4=20点>

1 ながいほうの () に ○を つけなさい。



2 みじかい じゅんに ひだりから ㉠～㉡の きごうを ならべな
さい。



こたえ

→ →

(全部できて得点)

5 5点×	正答数	得点
	大問連番5	

しあげのテスト

クラス	な 名	まえ 前
		男
		女

とく 得	てん 点	けい 計

100てん		

1 つぎの もんだいに こたえなさい。

〈5点×5=25点〉

1 つぎの かずを すうじて かきなさい。

(1) さんじゅうご

こたえ

35

(2) はちじゅう

こたえ

80

2 つぎの □に はいる かずを すうじて かきなさい。

(1) 10が 1こと 1が 1こを あわせた かずは **11**。

(2) 十のくらいが 7, 一のくらいが 3の かずは **73**。

(3) 94の 十のくらいの かずは **9**。

2 つぎの もんだいに こたえなさい。

〈5点×5=25点〉

1 おおきいほうの かずの () に ○を かきなさい。

(1)

43
(○)

34
()

(2)

10
()

100
(○)

2 かずが じゅんばんに ならんで います。 □に はいる かず を かきなさい。

(1)

62	63	64	65	66	67
----	----	----	----	-----------	----

(2)

20	30	40	50	60	70
----	----	-----------	----	----	----

(3)

88	86	84	82	80	78
----	----	----	-----------	----	----

2 5点×	正答数	得点
	5	25

3 つぎの けいさんを しなさい。

〈5点×4=20点〉

1 $3 + 5 =$ 8


2 $12 - 8 =$ 4

3 $60 + 40 =$ 100


4 $75 - 5 =$ 70

4 なんじなんぷんですか。

〈5点×2=10点〉



こたえ 1 じ 10 ぶん



こたえ 6 じ 55 ぶん

3 5点×	正答数	得点
	4	20

大問連番3

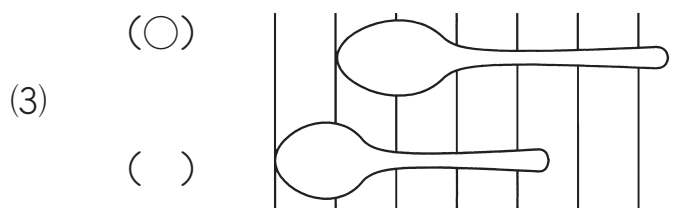

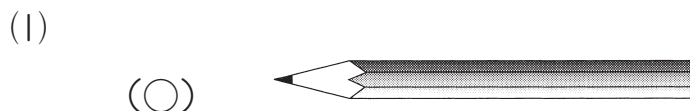
4 5点×	正答数	得点
	2	10

大問連番4

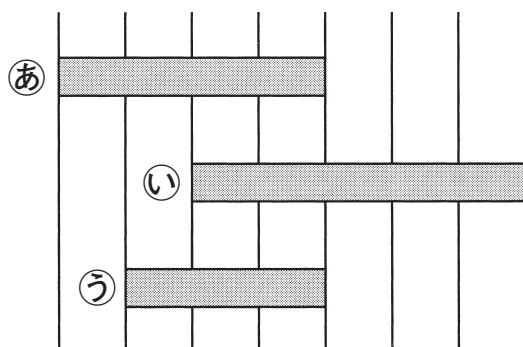
5 つぎの もんだいに こたえなさい。

〈5点×4=20点〉

1 ながいほうの () に ○を つけなさい。



2 みじかい じゅんに ひだりから ㉠～㉡の きごうを ならべなさい。



こたえ



(全部できて得点)

5 5点×	正答数	得点
	4	20

大問連番 5