

# Finishing Test



1 つぎの  にあてはまる数を答えなさい。

1  $3 \times 6 =$

2  $9 \times 4 =$

3  $22 + 35 =$

4  $58 - 17 =$

5  $472 - 38 =$

6  $73 - 36 + 23 =$

2 つぎの問題もんだいに答えなさい。

1 二千九十三を数字で書きなさい。

2 10000は、100を何こあつめた数ですか。

3 、、、の4つのカードをくみあわせてできる4けたの数のうち、いちばん大きい数はいくつですか。

4 さくらさんはクレヨンを142本もっていました。とおるさんに67本あげました。さくらさんがもっているクレヨンの数は何本になりましたか。

5 次のには、 $>$ 、 $<$ 、 $=$ のどれがあてはまりますか。あてはまる記号きごうを答えなさい。

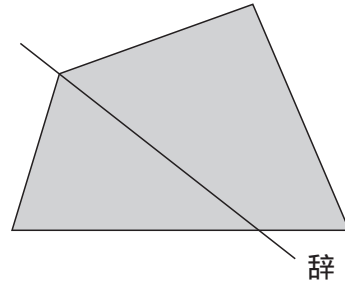
$$518 + 43 \quad \square \quad 557$$

6 あめが7こずつ入ったふくろが、8つあります。あめはぜんぶで何こありますか。

3

つぎの問題<sup>もんだい</sup>に答えなさい。

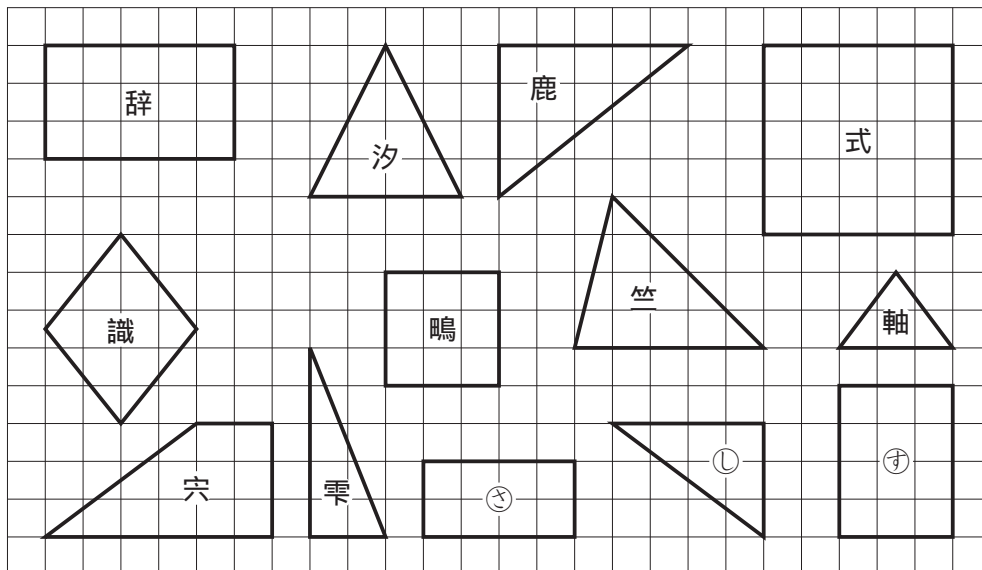
- 1 右のような形の紙があります。図の辞の線で紙を切ると、どの形が何まいできますか。つぎのア～ウからえらび、記号<sup>きごう</sup>で答えなさい。



- ア 三角形が 2 まい
- イ 四角形が 2 まい
- ウ 三角形が 1 まいと四角形が 1 まい

- 2 つぎの玩，癌にあてはまるものの記号を，下の辞～すからそれぞれすべてえらびなさい。


- 玩 正方形
- 癌 直角三角形




4 つぎの問題<sup>もんだい</sup>に答えなさい。

1 つぎの玩，癌の時計は，それぞれ何時何分をさしていますか。

玩



癌




2 つぎの  にあてはまる数を答えなさい。

玩 1日は  時間です。

癌 3時20分から25分あとの時こくは，  時  分です。

3 あゆみさんは，右の時計がさす時こくから朝ごはんを食べはじめました。あゆみさんが朝ごはんを食べはじめたのは，何時何分ですか。午前または午後をつかって答えなさい。



5 つぎの問題<sup>もんだい</sup>に答えなさい。

1 8cmは何mmですか。

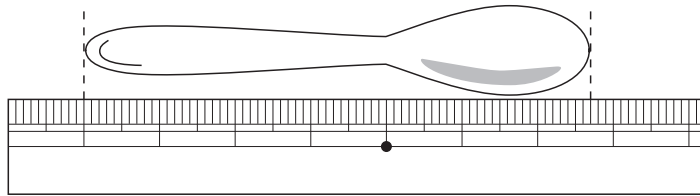
2 つぎのア～ウの長さのうち、いちばん長い長さはどれですか。記号<sup>きごう</sup>で答えなさい。

ア 2m20cm

イ 230cm

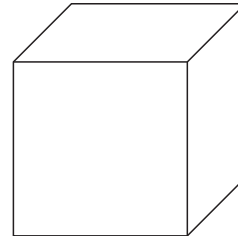
ウ 2m3cm

3 つぎの図のように、スプーンの長さをものさしではかりました。スプーンの長さは何cm何mmですか。

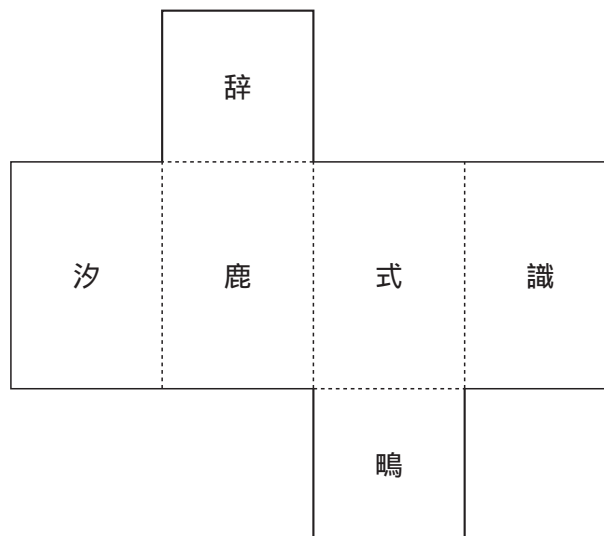


6 つぎの問題もんだいに答えなさい。

- 1 右のさいころの形の面めんは、ぜんぶでいくつありますか。また、ちょう点てんはぜんぶでいくつありますか。



- 2 下の図は、はこをひらいた形です。はこをくみ立てたとき、鹿とむかい合う面はどれですか。記号きごうで答えなさい。



①	1	1	2	2	3	3
	4	4	5	5	6	6

得点

① 正答数

4 ×

大問連番 1

②	7	1	8	2	9	3
					こ	
	峠	4	峠	5	岳	6
			本		こ	

得点

② 正答数

4 ×

大問連番 2

③	吸	1	2	
		炭		研

得点

③ 正答数

4 ×

大問連番 3

2, それぞれ順不同, すべてできて得点

④	1		1			
	峠	時	分	峠	時	分
	2		2			
	岐	時間	峠	時	分	
3		2 両方できて得点				
峠		分				

得点

④ 正答数

4 ×

大問連番 4

⑤	断	1	盆	2	芥	3
			mm		cm mm	

得点

⑤ 正答数

4 ×

大問連番 5

⑥	廻	1	崗	2
	面	ちょう点		
		つ	つ	

得点

⑥ 正答数

4 ×

大問連番 6

1 両方できて得点

とうあん ていしゅつ 答案を提出する前に, 受験番号を確かめなさい。

塾名	<input type="text"/>	クラス	氏名	男
所属校	<input type="text"/>	小学校	名	女

①	* ø	* ù	* ú
	* ù	* ü	* ý

①

②	* ø	* ù	* ú
	* ù	* ü	* ý
	š	¼	\

②

③	# ø	ù	
	¢	\$ €	% ¤

③

④	&	ø	
	ì	* ü	ì ü
	€	ü	)* f "
	* ú		
	ÿ	ì	ü

④

⑤	‡ ø	* ù	* ú
	N	Ń	N

⑤

⑥	* ø	γ ù	
	m	µ	€

⑥
