



- 1 けんたさんは、けんこうな生活・安全な生活について調べ、次の文にまとめました。この文を読んで、あとの各問いに答えなさい。

○水とくらし

①水は、②浄水場じょうすいできれいな水となり、③家庭などに送られます。使われたあとの水は、④しより場に運ばれ、きれいにされて川や海に流されます。

○ごみとくらし

⑤ごみをたくさん出すと⑥しよりが大変な上、資源しげんのむだになるので、少なくすることが大切です。そのために、⑦いろいろな取り組みが行われています。

○火事がおきたら

火事を発見したら、まず⑧番に電話します。連らくを受けた近くの⑨消防署しょうぼうしょから、消防車などが出動します。

○安全なまちにするために

交通事故じこがおき⑩通報つうほうがあると、警察けいさつに出動命令が出されます。事故のしよりも大切ですが、⑪日ごろから事故がおきないようにすることも大切です。

- 1 下線部①について、水をためるダムは、川のどのあたりにつくられていますか。次から選び、記号で答えなさい。

ア 川の上流 イ 川の中流 ウ 川の下流

- 2 下線部②について、次のア～オは、浄水場で水がきれいになるまでに行われることです。アをはじめ、オを終わりとして、作業のイ～エを順番どおりに左からならべ、記号で答えなさい。

ア 川の水を取水口からとり入れる。

イ 石や砂すなの層そうに通して、きれいにする。

ウ 沈砂池ちんさちで砂や土をしずめたあと、沈ちんでん池で薬品をまぜてにごりをしずめる。

エ 塩素えんそで消毒する。

オ 配水池からそれぞれの家庭などに配水する。

- 3 下線部③について、家庭では水を大切に使うことが求められています。右の文は、家庭でできる、水をむだにしないくふうの例を書いたものです。このように、水を使う量をできるだけ少なくしようとするのを何といいますか。漢字2字で答えなさい。

- ・歯みがきのときに、水を出しっぱなしにしない。
- ・お風呂の残り湯は、洗せんたくに使う。
- ・車を洗あらうときは、バケツにためた水を使う。

- 4 ④にあてはまることばを、漢字2字で答えなさい。

5 下線部⑤について、家庭から出されるごみのうち、収集されるとすぐ清掃工場に運ばれて燃やされるごみはどれですか。ア～エから一つ選び、記号で答えなさい。


ア



イ



ウ



エ



6 下線部⑥について、右のマークは、ある資源ごみがリサイクルされてつくられた製品につけられるマークです。この資源ごみはリサイクルされると、服やバッグなどにつくり変えられます。その資源ごみは何ですか。カタカナで答えなさい。



7 下線部⑦について、次の問いに答えなさい。

- (1) ごみをへらす取り組みには、リサイクル・リデュース（ごみそのものをへらす）・リユース（くりかえし使う）の3つがあります。この3つをまとめて何とよびますか。
- (2) (1)のリデュース（ごみそのものをへらす）の取り組みについて、家庭でできることには、どのようなことがありますか。一つ書きなさい。

8 にあてはまる3けたの数字を答えなさい。

9 下線部⑨について、消防署についての説明としてまちがっているものを、次から選び、記号で答えなさい。

- ア いつでも出動できるように、消防車や救急車が待機している。
- イ 消防士は交代ではたらき、24時間待機している。
- ウ 消防士は、火事がないときは使う道具の点検などを行っている。
- エ 火事のときいっしょに出動できるように、医者も消防署に待機している。

10 下線部⑩について、電話での通報はまずどこに届きますか。次から選び、記号で答えなさい。

- ア 交番
- イ 警察署
- ウ 通信指令室
- エ 市役所

11 下線部⑪について、最近、を使いながら歩いたり自転車で乗ったりするときに、交通事故がおこることが多くなっており、問題になっています。にあてはまることばを答えなさい。

2

日本の国土についてまとめた次の表を見て、あとの各問いに答えなさい。

日本の位置	日本の区分	さまざまな地形
<p>日本は、ユーラシア大陸の東側、<u>Ⅰ</u>の北西に位置し、①北東から南西にかけておよそ3000kmにわたって<u>弓なりに</u>連なっている島国です。</p>	<p>日本の国土は、②北海道・東北・関東・中部・<u>a</u>・中国・<u>b</u>・九州の8つの地方に分けられ、さらに政治を行ううえで、1都、1道、2府、<u>Ⅱ</u>県に分けられます。</p>	<p>日本は国土の約4分の3が山地です。 山がちで、③<u>低くて平らな土地</u>が広がっている平地が少ないため、日本の川は、外国の川とくらべて<u>④</u>。</p>
日本の気候	自然と災害	日本の資源
<p>日本の大部分は<u>Ⅲ</u>に属しており、気候が<u>温暖</u>で四季がはっきりしています。また、⑤日本の気候は、太平洋側・日本海側・瀬戸内・北海道・中央高地・南西諸島の気候の6つに区分されます。</p>	<p>日本は災害の多い国で、⑥<u>水害</u>、<u>干害</u>、<u>冷害</u>、<u>雪害</u>などが起こることがあります。 また、<u>Ⅰ</u>のまわりの火山帯の一部にあたる日本は、火山のふん火や⑦<u>地しん</u>も多く発生します。</p>	<p>⑧日本は国土の約3分の2が森林におおわれており、森林資源が豊富です。 また、日本には、「<u>鉱物の標本室</u>」といわれるほど、いろいろな種類の地下資源がありますが、利用できる量は少ないです。</p>

- 1 表中の Ⅰ ~ Ⅲ にあてはまることばや数字を、次からそれぞれ選び、記号で答えなさい。

ア 太平洋 イ 大西洋
ウ 33 エ 43
オ 熱帯 カ 温帯

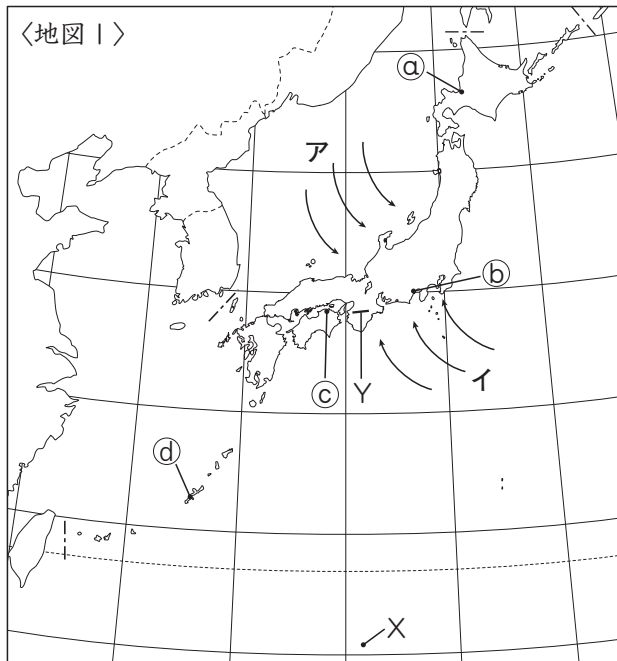
- 2 下線部①について、地図1中のXは、日本の南のはしの島をしめています。この島にあてはまるものを、次から選び、記号で答えなさい。

ア 択捉島 イ 南鳥島
ウ 与那国島 エ 沖ノ鳥島

- 3 下線部②は、日本の地方を、北の方にあるものから順にあげています。

a , b にあてはまる地方名をそれぞれ答えなさい。

- 4 下線部③について、右の図でしめた、川が運んできた土砂が河口付近にたまることによってできた地形を何というか、答えなさい。

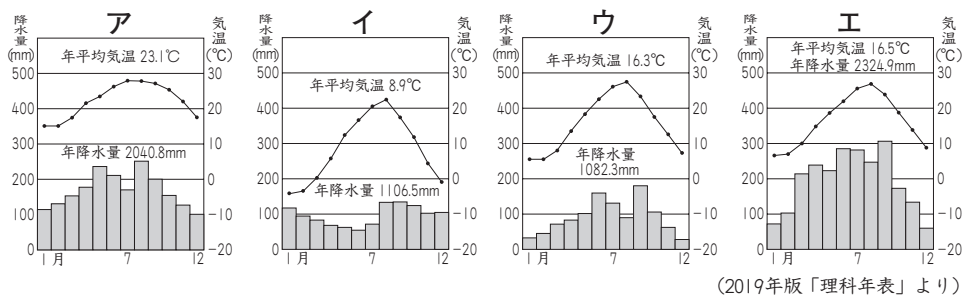


5 表中の にあてはまる文として最も^{てきとう}適当なものを、次から選び、記号で答えなさい。

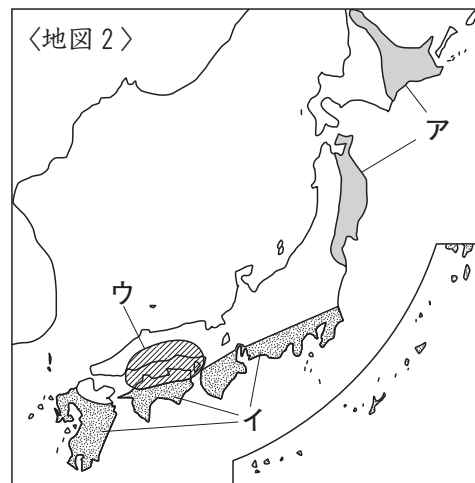
- ア 流れが急で、長さが短いです
- イ 流れがゆるやかで、長さが短いです
- ウ 流れが急で、長さが長いです
- エ 流れがゆるやかで、長さが長いです

6 下線部⑤について、次の各問いに答えなさい。

- (1) 地図1中のア・イは、夏と冬にふく^{きせつふう}季節風(季節によってきまった方向にふく風)をしめしています。冬の季節風は、ア・イのどちらですか。記号で答えなさい。
- (2) 次のア～エは、地図1中の㉑～㉔の気候グラフのいずれかをしめしています。このうち、㉓にあてはまるものを選び、記号で答えなさい。



7 下線部⑥について、右の地図2中のア～ウは、干害・冷害・水害のひ害を受けやすい地いきのいずれかをしめたものです。このうち、冷害のひ害を受けやすい地いきを選び、記号で答えなさい。



8 下線部⑦についてのべた次の文中の にあてはまる自然さい害の名称^{めいしやう}を答えなさい。

日本は、地しんの多い国です。地しんは家をこわすほか、山での山くずれ、海での を引きおこします。ひ害を少なくするためには、日ごろからひなん場所を決めるなどさい害^{そな}に備えた取り組みが大切です。

9 下線部⑧について、地図1中のYの山地は、「吉野^{よしの}すぎ」や「尾鷲^{おわせ}ひのき」の美林で知られています。この山地の名前を答えなさい。

3

各地の生活について、次の各問いに答えなさい。

1 沖縄のくらしについて、次の問いに答えなさい。

(1) 沖縄県の県庁所在地の名まえを答えなさい。

(2) 沖縄県では、さくらは何月ごろからさき始めますか。あてはまるものを次から選び、記号で答えなさい。

ア 1月 イ 3月 ウ 6月 エ 12月

(3) 右の写真は、沖縄県の伝統的な家をうつしたものです。この家について説明した次の文の 、 にあてはまることばの正しい組み合わせを、あとのア～エから選び、記号で答えなさい。



沖縄の家は、 から家を守るようにくふうしたつくりをしている。たとえば、屋根がわらをしっかりと固めたり、家を でかこんだりしている。

ア A：洪水こうずい， B：石がき イ A：洪水， B：竹林
ウ A：台風， B：石がき エ A：台風， B：竹林

(4) 右の写真は、沖縄にむかしあった琉球王国の国王の城を復元したものです。この城の名前を何といいますか。次から選び、記号で答えなさい。



ア 姫路城ひめじ イ 彦根城ひこね
ウ 鶴ヶ城つるが エ 首里城しゅり

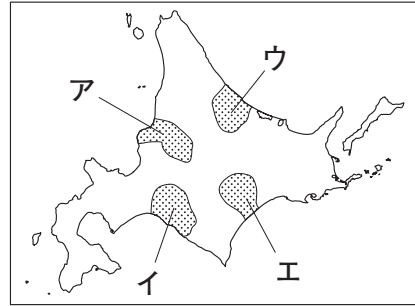
(5) 沖縄県には、1945年に戦争が終わったあと、現在でもある国の軍の基地げんざいが残されています。それは何という国の基地ですか。

(6) 沖縄県の農業について説明した文としてあてはまらないものを、次から選び、記号で答えなさい。

ア 農業の中心は稲作で、米の生産量は全国有数である。
イ 亜熱帯のくだものであるマンゴーなどのさいばいがさかんである。
ウ 最近、野菜や花のさいばいがさかんで、飛行機などで大都市に運んでいる。
エ 耕地の大部分は畑で、そのおよそ半分はさとうきび畑である。

2 北海道の暮らしについて、次の問いに答えなさい。

- (1) 北海道の道庁所在地の名まえを答えなさい。
(2) 十勝平野は、北海道のどの位置にありますか。
あてはまるものを、右の地図中のア～エから一つ選び、記号で答えなさい。



- (3) 十勝平野では畑作がさかんです。その理由としてあてはまるものを、次から選び、記号で答えなさい。

- ア 北海道の気候では、米づくりをすることができないから。
イ 土に火山灰ばいがふくまれているので、水田に向かないから。
ウ 外国が近くにあるので、野菜がたくさん売れるから。
エ 標高の高いところに土地があるので、水を引くことがむずかしいから。

- (4) 北海道でさかんにさいばいされている作物としてあてはまらないものを、次から選び、記号で答えなさい。

- ア ジャガイモ イ だいず ウ パイナップル エ たまねぎ

- (5) 右の写真は、北海道で牧草を育てて乳牛にゅうを飼ぎやうい、牛乳を生産する農業のようすをうつしたものです。この農業を何といいますか。



- (6) 冬の寒さがきびしい北海道で、寒さから生活を守る家のくふうとしてあてはまらないものを、次から選び、記号で答えなさい。

- ア 家のまどガラスを二重にしている。
イ かべに断熱材だんねつざいを入れている。
ウ 水道管を地下にうめている。
エ 水不足にそなえて屋根に給水タンクをそなえている。

1	① 1	② 2				③ 3
		ア → → → → オ				
	④ 4		⑤ 5	⑥ 6		⑦ 7
		しより場			⑦ (1)	
	7					
	⑧ (2)					
	⑨ 8	⑩ 9	⑪ 10	⑫ 11		

① 各3点

2	1			⑬ 2	
	⑬ I	⑭ II	⑮ III		
	3				
	⑰ a	地方		⑱ b	地方
	⑲ 4	⑳ 5	㉑ 6		㉒ 7
			㉑ (1)	㉒ (2)	
	㉔ 8	㉕ 9			
					山地

② 1~7各2点
他各3点

3	1			
	⑳ (1)	㉑ (2)	㉒ (3)	㉓ (4)
	市			
	1		2	
	㉕ (5)	㉖ (6)	㉗ (1)	市
	2			
㉘ (2)	㉙ (3)	㉚ (4)	㉛ (5)	㉜ (6)

③ 各3点

塾名		氏名		男
教室名	クラス			女

1	① 1	② 2				③ 3	
	ア	ア → ウ → イ → エ → オ				節	水
	④ 4		⑤ 5	⑥ 6		⑦ 7	
	下	水	ウ	ペットボトル		⑦ (1)	3R
	7						
	⑧ (2) (例) 買い物のときにエコバッグを使う。						
⑨ 8		⑩ 9	⑪ 10	⑫ 11			
1	1	9	エ	ウ	けいたい電話		

① 各3点

2	1			⑬ 2			
	⑬ I	ア	⑭ II	エ	⑮ III	カ	エ
	3						
	⑰ α	近畿		地方	⑱ b	四国	地方
	⑰ 4	⑳ 5		㉑ 6		㉒ 7	
	三角州		ア	⑳ (1)	ア	㉑ (2)	ウ
㉔ 8	㉕ 9						
津波		紀伊				山地	

② 1~7各2点
他各3点

3	1									
	⑳ (1)	那覇		市	㉑ (2)	ア	㉒ (3)	ウ	㉓ (4)	エ
	1			2						
	㉔ (5)	アメリカ		㉕ (6)	ア	㉖ (1)	札幌		市	
2										
㉗ (2)	エ	㉘ (3)	イ	㉙ (4)	ウ	㉚ (5)	らく農		㉛ (6)	エ

③ 各3点

塾名		氏名		男
教室名	クラス	名		女