

# M・J プロGRESS 社会

近年、公立高校・私立高校を問わず、上位レベルの入試における合否は、単に暗記事項を覚えているかどうかではなく、知識を使って問題を考えさせる「思考型問題」に対応できるかどうかにかかっています。

「思考型問題」の対策をするとき、思考型の設問だけをピックアップして解けばよいと思いますが、そうすると、演習で得られた知識が断片的なものになってしまい、効果的な演習になりません。問題演習を効果的なものにするためには、思考型の設問で問われている内容が、どの分野と関連があり、どの分野の発展内容であるかを理解することが必要になります。

本書では、近年の入試問題から、思考型の設問を含んだ大問を選び、その大問の他の設問を解きながら、関連事項の知識を確認し、思考型の設問で問われている周辺の事柄を理解できるように編集しています。

本書で得た知識を、入試本番で活かせる形で、暗記することを意識すれば、応用力が飛躍的にアップするでしょう。また、思考型の問題に取り組む中で、その分野に興味や関心を持ってもらえることを期待しています。



思考型の設問についています。

## ◆もくじ◆

第1章	地理1	アフリカ州の歴史と産業	2
	地理2	世界の森林伐採と維持	4
	地理3	人口に関する問題	7
	地理4	移民と貿易	10
	地理5	工業地域の特徴と海外進出	13
	地理6	貧困問題とODA	16
	地理7	農村の活性化	18
	地理8	インドシナ半島の発展	20
第2章	歴史1	農民の暮らしと政治改革	22
	歴史2	江戸幕府の財政、殖産興業、オリンピック開催	26
	歴史3	武家諸法度の変更	29
	歴史4	交通網の整備	31
第3章	公民1	地方自治体の財政	34
	公民2	基本的人権と教育	36
	公民3	女性の労働、市町村合併	38
	公民4	選挙、経済に関する諸問題	40
	公民5	価格の決定と消費者	44
	公民6	金融のしくみ、為替	46
	公民7	貿易関係、選挙の投票率	49
	公民8	法律案の採決、オンラインショップ	51
	公民9	アメリカの経済対策	53

## 世界の森林伐採と維持

**問題**

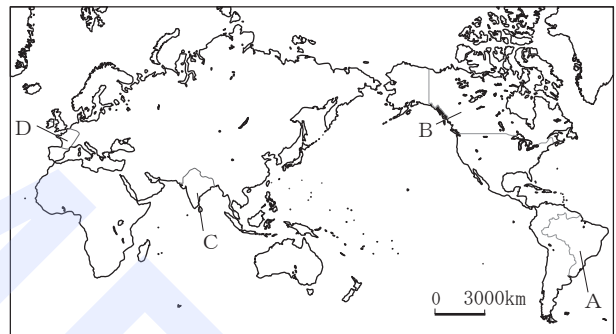
次の文章を読み、あとの各問に答えよ。

(東京)

森林には、土砂災害の防止、水質の浄化や地球温暖化の緩和などの機能がある。古来、人々は、森林から多大な恩恵を受けるとともに、①森林を伐採し、資源としても利用している。森林の伐採が、再生を大きく上回れば、自然環境に重大な影響を与えるため、②国際社会において、これまで森林の維持、発展に関する取り組みが行われてきた。

こうしたなかで、③世界の森林面積の変化については、地域的な偏りがみられ、一部の地域では増加しているものの、全体では減少している。この課題を解決し、持続可能な社会を形成するためには、国境を越えた経済的、技術的な協力などが大切である。

- (1) ①森林を伐採し、資源としても利用している。とあるが、Iの表のア～エは、略地図中のA～Dのいずれかの国の1985年と2011年における森林面積、国土面積に占める森林面積の割合、木材伐採高、木材伐採高のうち針葉樹伐採高を示したものである。IIの文章は、略地図中のA～Dのいずれかの国の森林に関する状況について述べたものである。IIの文章で述べている国に当てはまるのは、Iの表のア～エのうちのどれか。



I	森林面積 (千 ha)		国土面積に占める 森林面積の割合 (%)		木材伐採高 (千 m <sup>3</sup> )		針葉樹伐採高 (千 m <sup>3</sup> )	
	1985年	2011年	1985年	2011年	1985年	2011年	1985年	2011年
ア	565280	517328	66.4	60.8	225905	284019	37024	52731
イ	326129	310134	32.7	31.1	171305	145066	156679	119132
ウ	14603	16002	26.7	29.1	38999	55041	19481	22250
エ	67420	68579	20.5	20.9	245029	331969	9132	12165

(「世界国勢図会」2013/14年版などより作成)

- II
- 州を代表する農業国として有名で、この国の森林は、国土の北部から西部のなだらかな平野では農地の中に分布し、東部国境や南東部に広がる山地には針葉樹が分布している。
  - 18世紀後半には、市民を中心とした、自由で平等な社会を目指す動きがあった。さらに、19世紀には、森林に関する法律がつくられ、森林の管理が強化されるようになった。その影響もあり、1985年と比べて2011年には、木材伐採高が増加しているにもかかわらず、森林面積及び国土面積に占める森林面積の割合は増加している。2011年における木材伐採高に占める針葉樹伐採高の割合は、1985年と比べて減少している。



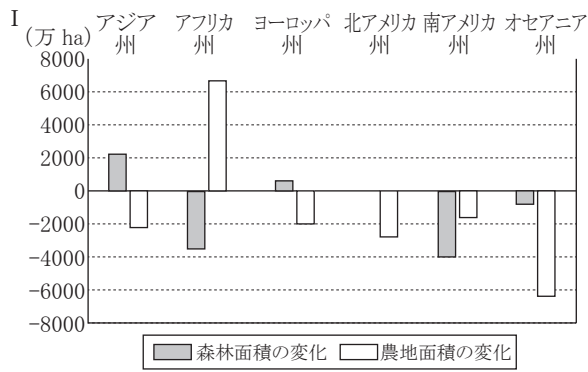
(2) ② 国際社会において、これまで森林の維持、発展に関する取り組みが行われてきた。とあるが、次の略年表は、1945年から2011年までの国際的な森林の維持、発展に関する取り組みについてまとめたものである。略年表中のAの時期に当てはまるのは、あとのア～エのうちではどれか。

西暦	国際的な森林の維持、発展に関する取り組み
1945	●国際連合食糧農業機関が設立され、目標の一つに農林水産業の生産性・持続性の向上が掲げられた。
1960	●国際連合食糧農業機関の支援を受けた世界林業会議がアメリカ合衆国で開催された。
1978	●マレーシアで生物多様性の保全等を定めた国家林業政策が打ち出された。
1985	●熱帯林の急激な減少が国際的な問題となり、「国際森林年」が設定された。
1992	●国連環境開発会議（地球サミット）において、森林に関する原則などが採択された。
2011	●「国際森林年」にあたり、国連において保全及び持続可能な森林の開発を強化することが決議された。

- ア ソビエト連邦では、市場経済を導入するなど経済の立て直しを進めるなかで、森林を一元的に管理する必要性が高まり、森林管理と林業を統合する試みが行われた。
- イ 日本では、身近な自然の減少や公害の発生など生活環境が悪化し、国民の自然環境の保全への意識が高まるなか、環境庁が設置された。
- ウ ヨーロッパでは、欧州連合が成立した年に、持続可能な森林管理において生物多様性の保護が不可欠であることが示された。
- エ 中華人民共和国では、この国が成立した年に、荒れた土地への植林、森林保護や国土の緑化を推進する必要性が示された。



(3) ③ 世界の森林面積の変化については、地域的な偏りがみられ、一部の地域では増加しているものの、全体では減少している。とあるが、Ⅰのグラフは、世界各州の2000年と2010年を比較した森林面積及び農地面積の変化を示したものである。Ⅱの表は、世界各州の2000年に対する2010年の人口増加率を示したものである。Ⅲの文章は、世界のいずれかの州の歴史的背景と自然環境などについてまとめたものである。ⅠとⅡの資料を活用し、Ⅲの文章で述べている州における森林面積及び農地面積の変化の様子とその理由について、簡単に述べよ。



(「世界森林資源評価 2010」などより作成)

II

	人口増加率 (%)
アジア州	12.1
アフリカ州	27.6
ヨーロッパ州	1.5
北アメリカ州	11.4
南アメリカ州	13.2
オセアニア州	19.4

(総務省の資料より作成)

- III
- 20 世紀初めまでに、一部の地域を除き植民地として分割されたが、20 世紀半ば以降に多くの国々が独立した。
  - 北部には世界最大の砂漠が広がり、北東部には世界最長の河川が流れている。
  - 金、銅、ダイヤモンドなどの鉱産資源が豊富に分布している。

問題

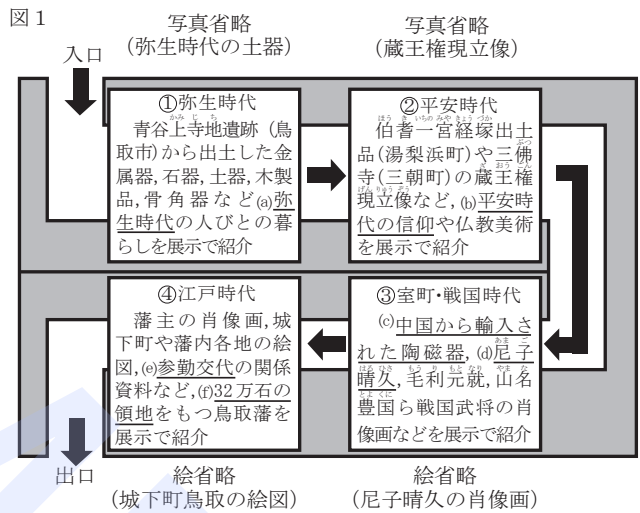
次の各問いに答えなさい。

(鳥取)

問1 図1は、鳥取県立博物館の歴史・民俗展示室について、時代ごとの展示の特徴を簡単に表したものである。図1をみて、あとの各問いに答えなさい。

(1) 下線部(a)に関して、この時代のできごとを説明した文として最も適切なものを、次のア～エからひとつ選び、記号で答えなさい。

- ア 大和政権(ヤマト王権)が百済と連合して、高句麗や新羅と戦った。
- イ 中国や朝鮮半島から青銅器が伝わり、銅鐸などが祭りの道具として使われた。
- ウ 渡来人によって仏教が伝わり、人々の信仰や文化に影響を与えた。
- エ 表面に縄目の文様がつけられた土器をつくり始めた。



(2) 下線部(b)に関して、文1中の( )にあてはまる語を答えなさい。


文1

平安時代半ばには、念仏を唱えて阿弥陀仏にすがり、死後に苦しみのない世界に生まれ変わることを願う( )が流行した。

(3) 下線部(c)に関連して、室町時代における中国(明)との貿易について、文2 図2中の( A ), ( B )にあてはまる語をそれぞれ答えなさい。

文2

明は、密貿易や海賊行為を行う( A )と区別するため、正式な貿易船に対し、右の図2の合い札を与えた。そのため日明貿易のことを( B )貿易ともいう。

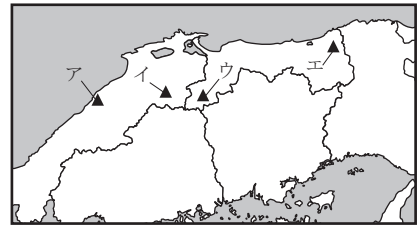


A :                      B :



(4) 下線部(d)に関連して、尼子氏は当時の日本における最大の銀山をめぐって毛利氏らと争った。この銀山の場所を略地図中のア～エからひとつ選び、記号で答えなさい。なお、この銀山は、2007年に銀山遺跡と文化的景観が世界遺産に登録されている。

略地図



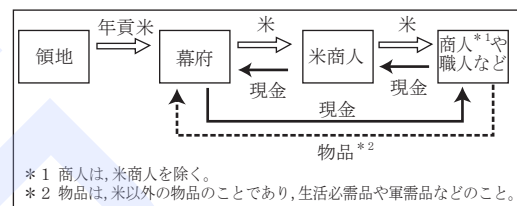
(5) 下線部(e)に関連して、参勤交代の制度を整えた3代将軍徳川家光の将軍在職中のできごととして適切なものを、次のア～エからひとつ選び、記号で答えなさい。

- ア 幕府は御成敗式目を定め、大名を統制した。
- イ 首里<sup>しゅり</sup>を都として、琉球王国が成立した。
- ウ 大塩平八郎の乱が起こった。
- エ 島原・天草一揆が起こった。



(6) 下線部(f)に関連して、図3は、江戸幕府の財政における米・現金・物品の流れを示したものである。文3は、8代将軍徳川吉宗の将軍在職中における幕府の財政を説明したものである。図3を参考にして、文3中の( )に適切な語句を入れて文3を完成させなさい。なお、あとの条件にしたがって25字以内で記入すること。文3

図3 江戸幕府の財政における米・現金・物品の流れ (一部分)



徳川吉宗は、幕府の財政を立て直すため、新田開発を進めたり、大名には参勤交代をゆるめる代わりに米を献上させたりした。当時の幕府の主な収入源は、領地から徴収する年貢米だったが、米の生産量が増えると、米の値段は下がった。米の値段が下がると、幕府にとって( )、購入できる物品が少なくなるといった問題が生じた。そのため、徳川吉宗は米の値段の安定にも努めた。

条件

- ・「年貢米」「現金」の2語を使うこと。
- ・句読点も字数に数えること。

問2 略年表をみて、あとの各問いに答えなさい。

(1) 下線部(a)に関連して、この頃に活躍していた人物が描いた絵を、次のア～エからひとつ選び、記号で答えなさい。(絵省略)

- ア 狩野永徳 (伝)「唐獅子図屏風」
- イ 葛飾北斎「神奈川沖浪裏」
- ウ 横山大観「無我」
- エ 菱川師宣「見返り美人図」

略年表

年	できごと
(a) 1825	異国船打払令が出される
1868	(b) 新政府が、年号を明治と改める
1916	(c) {ドイツで開催予定だったベルリンオリンピックが中止となる
(d) 1940	{フィンランドで開催予定だったヘルシンキオリンピックが中止となる
1941	太平洋戦争が始まる
1965	日韓基本条約を結ぶ

LEVEL UP

(2) 下線部(b)に関連して、明治政府は殖産興業を進め、各地に官営模範工場を建てた。次の図の工場生産された生産物は、当時の日本の輸出を支えていた。その生産物を材料としてつくられたと考えられる最も適切なものを、あとのア～エからひとつ選び、記号で答えなさい。



- ア ドイツ製の陶磁器
- イ イギリス製の鉄道レール
- ウ フランス製のドレス
- エ アメリカ製のジーンズ

LEVEL UP

(3) (c)に関連して、文は、ベルリンオリンピックとヘルシンキオリンピックが中止となった理由を述べたものである。文中の( )に適切な語句を入れて文を完成させなさい。なお、あとの条件にしたがって10字以内で記入すること。

文

ドイツとフィンランドでは、ともにオリンピックの開催が予定されていたが、( )  
ため、どちらのオリンピックも中止となった。

条件

- ・ 共通する理由を答えること。
  - ・ 句読点も字数に数えること。

(4) (d)の期間中に日本が結んだ、次のア～オの条約を、古いものから順に並べ、記号で答えなさい。

- ア ベルサイユ条約
- イ ポーツマス条約
- ウ 日ソ中立条約
- エ サンフランシスコ平和条約
- オ 下関条約

問題

知子さんたちのグループは、「私たちの暮らしと経済」について学習しています。下の会話文と知子さんのノートを見て、後の1から6までの各問いに答えなさい。(滋賀)

知子さん：職場体験でお世話になったスーパーマーケットでは、レタスなど同じ商品でも月や日によって価格に違いがあったよね。

健二さん：お店によっても、同じ商品でも価格が違うことがあるのかな。

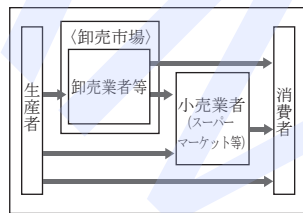
静香さん：価格はどのようにして決まるのだろう。

知子さん：価格の決定に関係しそうな資料を集めてノートにまとめてみるよ。

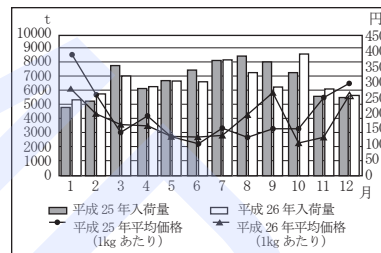
知子さんのノート

テーマ：価格はどのように決まるのか  
〈集めた資料〉

資料1 農産物の生産から消費までの流れ

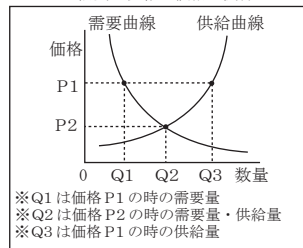


資料2 レタスの入荷量と平均価格の推移

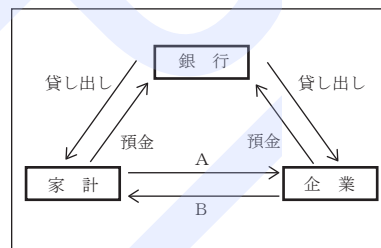


〔東京都中央卸売市場・市場統計情報〕より作成

資料3 需要と供給と価格の関係



資料4 家計と企業と銀行の関係



〈資料1～4から分かったこと〉

- ①資料1：商品が生産者から消費者に渡るまでの間には、さまざまな流れがある。
- ②資料2：レタスの入荷量と価格には関係がありそうだ。
- ③資料3：価格の決まり方には需要量と供給量が関係していそうだ。
- ④資料4：銀行への預金が家計や企業に貸し出されて経済活動を支えている。

〈さらに深めたいこと〉

- なぜ店や入荷量，需要量・供給量によって価格が変わるのか。
- 変化する価格やいろいろな商品に対する情報のなかで，商品を購入する際に心がけなければならないことは何か。



1 資料1について、農産物等の商品が生産者から消費者に届くまでの流れを何と呼んでいるか。最も当てはまるものを、次のアからエまでのの中から1つ選びなさい。

ア 資本    イ 流通    ウ 開発    エ 配当

**LEVEL UP**  
2 資料2は、東京都中央卸売市場における平成25年と平成26年のレタスの月ごとの入荷量と平均価格の推移を示している。なぜ、平成26年は、8月から10月にかけての月ごとのレタスの平均価格がこのように推移したと考えられるか。平成25年と比較して、資料2から分かることを書きなさい。

**LEVEL UP**  
3 資料3を使って、供給する側が当初設定した価格であるP1から均衡価格であるP2に決まっていく経緯について、需要と供給の関係から説明しなさい。

4 生産者どうしで相談をして価格を下げない取り決めを行うことなどを禁じた法律が、1947年に制定された。この法律を何というか。書きなさい。

5 資料4のA、Bそれぞれの矢印に当てはまる経済活動を、次のアからオまでのの中からすべて選びなさい。

ア 労働    イ サービス    ウ 賃金    エ 税金    オ 代金

A		B	
---	--	---	--

**LEVEL UP**  
6 知子さんたちは、消費者としての適切な行動について話し合うことになった。商品を購入した時に失敗した経験の話を出し合い、次のようにまとめた。知子さんのノートの〈さらに深めたいこと〉と下の〈出された発言〉を参考にして、「消費者として商品を購入する際にどのようなことを心がける必要があるのか」について、契約という観点から「自由」「責任」という言葉を使って書きなさい。  
〈出された発言〉

定価より安くなっていた洋服を思わず買ってしまったが、流行が変わったのでほとんど着ていない。

インターネットで商品を購入したが、注文した商品と違う物が届いて、返品することになった。

社会人の姉がクレジットカードで洋服やバッグを買いすぎて、給料のほとんどを支払いにあてたと聞いた。

宣伝を見て、あるゲームソフトを購入したが、実際やってみるとそれ程おもしろくなく、すぐに飽きてやらなくなった。

# 解答と解説

〈M・JプロGRESS 社会〉

## 地理1 アフリカ州の歴史と産業

2ページ

【解答】

(1)① B ② う ③ 地中海式農業

④ (例) ヨーロッパ諸国の植民地であったときに引かれた境界線が、独立後もそのまま使われたから。

(2) (例) 輸出を特定の種類の鉱産資源や農産物に頼っており、それらの取引価格の変動が大きいので、収入が安定しないから。

【解説】

(1)①② 本初子午線と赤道は、世界地図の中で場所を正確に覚えておくとういだろう。

③ 地中海式農業は、地中海沿岸だけでなく、アフリカの南西部、アメリカの西海岸、オーストラリア南部などでもみられる。

(2) 資料1から、特定の鉱産資源や農産物に依存していることがわかり、資料2から、それらの価格の変動が大きいことがわかる。

## 地理2 世界の森林伐採と維持

4ページ

【解答】

(1) ウ (2) イ

(3) (例) IIIはアフリカ州について述べており、アフリカ州では、森林面積は減少し、農地面積は増加している。その理由は、人口が増加したので食料を確保するため、森林を切り開いて農地にしたからである。

【解説】

(1) アは森林面積が最も大きく木材伐採高も高いのでAのブラジル、イは木材伐採高に占める針葉樹伐採高の割合が高いことからBのカナダ。残るウとエはCのインドかDのフランスであるが、表中の森林面積と国土面積に占める森林面積の割合より、ウの方が国土面積が小さいことが分かるため、ウがDのフランス、エがCのインドとなる。IIは、州を代表する農業国で、18世紀後半に市民を中心とした自由で平等な社会を目指す動きがあったことからDのフランスについて述べている。よって、ウが正答。

(2) アのソビエト連邦が市場経済を導入し経済の立て直しを進めたのは1980年代後半。イの環境庁が設置されたのは1971年。ウの欧州連合が成立したのは1993年。エの中華人民共和国が成立したのは1949年。

(3) IIIは「20世紀半ば以降に多くの国々が独立した」、「北部には世界最大の砂漠が広がり、北東部には世界最長の河川が流れている」などからアフリカ州について述べているとわかる。

たところ。

### 【解説】

- (2) 資料3より、幕府の収入源の6割以上が年貢であることをおさえる。  
(3) アは鎌倉時代、ウは奈良時代、エは第二次世界大戦後に行われた農地改革について述べられている。  
(4) アとれたいわしは肥料として加工され、主に近畿地方で綿花の生産に使われた。イ幕府は貨幣の鑄造権を独占し、金貨や銀貨をつくった。エ五街道はいずれも江戸の日本橋を起点とする。

## 歴史2 江戸幕府の財政、殖産興業、オリンピック開催

### 26 ページ

#### 【解答】

- 問1 (1) イ (2) 浄土信仰 (浄土教) (3) A: 倭寇, B: 勘合 (4) ア (5) エ  
(6) (例) 年貢米を米商人に売って得られる現金が減るため (22字)  
問2 (1) イ (2) ウ (3) (例) 戦争が起こった (7字) (4) オ→イ→ア→ウ→エ

#### 【解説】

- 問1 (1) ア・ウは古墳時代、エは縄文時代について述べている。  
(4) 「2007年に…世界遺産に登録されている」ことから、石見銀山と判断する。石見銀山は現在の島根県大田市にある。  
(6) 図3より、幕府は領地から年貢米を受け取り、米商人に米を渡して現金をもらっていることや、商人や職人などに現金を渡し物品を受け取っていることを読み取る。  
問2 (1) (a)は江戸時代後半であるため、化政文化が栄えていた。よってイ。アは安土桃山時代、ウは明治時代、エは江戸時代初期の元禄文化の作品。  
(2) 図は富岡製糸場のようなすを表したものである。富岡製糸場は当時最大の輸出品であった生糸の品質改善と生産向上を目的として建設された。  
(3) 1916年は第一次世界大戦中、1940年は第二次世界戦中である。  
(4) アは1919年、イは1905年、ウは1941年、エは1951年、オは1895年。

## 歴史3 武家諸法度の変更

### 29 ページ

#### 【解答】

- 問1 (1) 執権 (2) エ 問2 唐 問3 (例) 法律の範囲内において認められていた。  
問4 (例) 幕府は諸大名に軍事力を持たせないように大船の製造禁止を定めたが、黒船の来航をうけ、防衛のための備えや軍備強化が必要となったから。  
問5 B→A→D→C

#### 【解説】

- 問1 (2) アは室町幕府の役職、イは律令制下での役職、ウは律令制下での兵役である。  
問3 大日本帝国憲法では、「日本臣民ハ法律ノ範囲内ニ於テ言論著作印行集会及結社ノ自由ヲ有ス」と定められている。  
問4 資料1からは幕府が大名の軍事力をおさえようとしたことを、資料3からは資料2の黒船の来航

## 公民5 価格の決定と消費者

44 ページ

【解答】

1 イ

2 (例) 平成 25 年に比べると、平成 26 年の 8～9 月は入荷量が減っているため、価格が上昇し、10 月は入荷量が増えているため、価格が下降したと考えられる。

3 (例) P 1 の価格のときは、供給量より需要量が少ない。そのため商品が売れ残ることになるので、供給する側は価格を下げている。すると需要量が増えるので、需要量と供給量が一致する均衡価格に近づいていく。

4 独占禁止法

5 A : ア・オ B : イ・ウ

6 (例) 商品の売買は契約である。消費者は自由に購入することができるが、自分の消費行動が社会や環境に与える影響を考える責任がある。

【解説】

2 8～9 月は入荷量が減っているため、需要が供給を上回り、価格が上昇した。反対に 10 月は入荷量が増えているため、供給が需要を上回り、価格が下降した、と考えられる。

3 資料 3 から、価格 P 1 のとき、供給量 Q 3 に対して、実際の需要は Q 1 しかないことがわかる。供給側が P 2 まで価格を下げると、需要量は Q 2 まで増加する。

5 家計が提供する労働の対価として、企業は賃金を支払い、企業が提供するサービスや商品に対して、家計は代金を支払う。

6 消費者には権利と責任がある。商品の適切な情報を知り、自由に選択する権利がある一方で、自分の選択が生産者や販売企業、環境などに与える影響を自覚し、よりよい商品を増やしていく責任がある。

## 公民6 金融のしくみ、為替

46 ページ

【解答】

I (1)① 普通選挙 ② (例) 東京都第 5 区の一票の価値は、長崎県第 3 区と比べると約半分である。

(2)① エ ② 国民主権

(3) ウ

(4)① イ ② (例) 直接金融とは、企業が株式などで資金を調達するしくみで、間接金融とは、金融機関を通じて資金を調達するしくみである。

II (1) (例) 円安が進むと、イギリスからの訪日旅行者数が増えている。

(2) (例) アジア各国からの訪日外国人品目別購入率は、欧米と比較すると、日用品が高く、日本の文化に関する品が低い。

【解説】

I (1)① 現在の日本の選挙制度には、意見を政治に正しく反映させるために、普通選挙、平等選挙、直接選挙、秘密選挙、の 4 つの基本原則がある。