




# たすのかな, ひくのかな



必ず、きほんの かくにんを しましょう。

1 [けいさん] つぎの けいさんを しなさい。

(1)  $3 + 7 + 5$

(2)  $15 - 1 - 2$

(3)  $12 + 0 + 6$

(4)  $16 - 4 - 8$

(5)  $9 + 4 - 6$

(6)  $27 - 7 + 30$

(7)  $100 - 40 + 20$

(8)  $70 + 10 - 50$

(1)	(2)
(3)	(4)
(5)	(6)
(7)	(8)

2 [たすのかな, ひくのかな] おおきな おさらには おもちが 20こ, ちい  
 きな おさらには おもちが 10こ のって います。

(1) おもちは あわせて なんこですか。

しき	こたえ こ
----	----------

(2) おおきな おさらの おもちは なんこ おおいですか。

しき	こたえ こ
----	----------

3 [たしたり, ひいたり] こやに, うしが 12ひき います。3ひき でて  
 いきましたが, あとで 5ひき はいって きました。うしは なんびき  
 に なりましたか。1つの しきに かいて もとめなさい。

しき	こたえ ひき
----	-----------

♠つぎに, いろいろな もんだいを ときましょう。

4 つぎの けいさんを しなさい。

(1)  $2 + 4 + 3$

(2)  $10 - 2 - 8$

(3)  $9 + 8 + 2$

(4)  $14 - 4 - 3$

(5)  $3 + 4 - 2$

(6)  $11 - 7 + 3$

(7)  $20 - 10 + 5$

(8)  $30 - 20 - 8$

(9)  $90 - 50 + 2$

(10)  $81 + 6 - 7$

(1)	(2)
(3)	(4)
(5)	(6)
(7)	(8)
(9)	(10)

5 たかしさんは 40えん もって います。おかあさんに 50えん もらいました。おかねは なんえんに なりましたか。

しき	こたえ えん
----	-----------

6 よしみさんは 80えん もって います。50えんの あめを かいました。おかねは なんえんに なりましたか。

しき	こたえ えん
----	-----------

12 たすのかな, ひくのかな

7 おんなのこが 30にん, おとこのこが 40にん います。

(1) こどもは なんにん いますか。

しき	こたえ にん
----	-----------

(2) どちらが なんにん おおいですか。

しき	こたえ が にん おおい
----	-----------------

8 [ためそう] えんぴつを 10ぼん けずりました。まだ けずって いない えんぴつが 20ぼん あります。えんぴつは ぜんぶで なんぼん ありますか。

しき	こたえ ぼん
----	-----------

9 [ためそう] かずこさんと たかおさんが げえむを しています。かずこさんは 38てん とりました。たかおさんは かずこさんより 3てん まけました。たかおさんは なんてんですか。

しき	こたえ てん
----	-----------

★10 [ためそう] えんぴつが 17ぼん あります。くれよんは, えんぴつより 7ぼん すくないそうです。えんぴつと くれよんを あわせると, なんぼんに なりますか。

くれよんは(しき)	くれよん ぼん
えんぴつとくれよんは(しき)	こたえ ぼん

♡じっくり かんがえましょう。

① □ に あてはまる，+か -の きごうを いれなさい。

(1)  $8 \square 2 = 10$

(2)  $8 \square 2 = 6$

(3)  $63 \square 3 = 60$

(4)  $70 \square 10 = 80$

② □ に +か -の きごうを 入れて，ただしい けいさんに しなさい。

$5 \square 4 \square 3 \square 2 \square 1 = 9$

③ たて，よこ，ななめの 3つの かずを たすと，こたえは おなじに なります。あいて いる □ に あてはまる かずを いれなさい。

2		4
	5	
		8

④ ひろしさんの おにいさんの ねんれいは，①～④の じゅんに けいさんすると もとめられます。おにいさんは なんさいですか。

- ① 30より 10 おおきい。
- ② ①の こたえより 20 ちいさい。
- ③ ②の こたえより 9 おおきい。
- ④ ③の こたえの 一のくらのいのかず。

さい



すうじで あそぼう ① ●たしざん・ひきざん

① けいさんをして、こたえをもとめましょう。こたえが ちいさいじゅんに けいさんの もじを ならべると、ことばが できます。

$80 - 30$  く

$7 + 22$  う

$18 - 6$  る


$40 - 30$  は

$30 - 10$  は

$20 + 20$  す

$20 + 5$  も

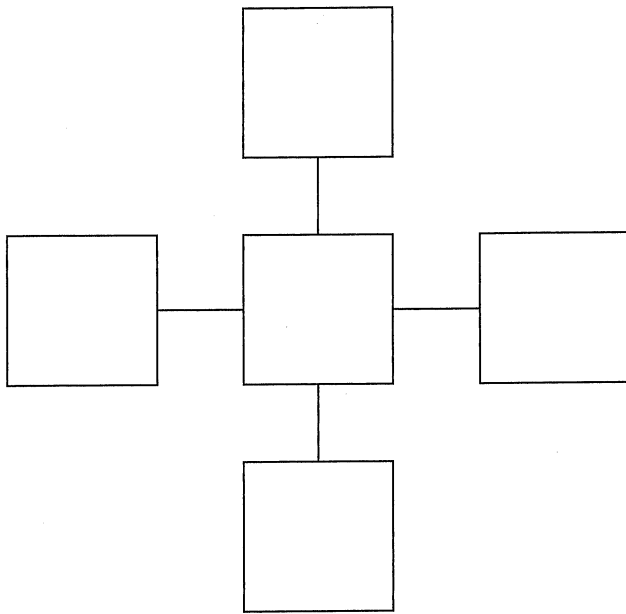
とっても  
まちどおしいね。



も	じ								
---	---	--	--	--	--	--	--	--	--

② こたえが 12に なる ところに、いろを ぬりましょう。



3 したの □の なかに, 1から 5までの すうじを 入れて, たした  
こたえが, たても よこも おなじに なるように しましょう。




こたえは 1つじゃ  
ないよ。いろいろか  
んがえて みてね。



4 4まいの かあどを ひいて, かあどの すうじを ぜんぶ たした  
とき, こたえが おおきいほうを ちと します。しげるさんが か  
つ ためには, 4まいめの かあどは いくつより おおきければ よい  
ですか。

	1まいめ	2まいめ	3まいめ	4まいめ
あきさん 	2	7	3	6
しげるさん 	4	8	5	?



より おおきい かず

# かいとう

# 《W小1さんすう》

## ① たしざん

1 (1) 100 (2) 63 (3) 8, 2

【かんがえかた】 (2) 10が6つで60, 1が3つで3。60と3で63。

(3) 82は, 80と2があわさったかず。80は10が8つ, 2は1が2つあつまったかず。

2 (1) 9 (2) 10 (3) 12 (4) 15

(5) 15 (6) 24 (7) 70 (8) 100

(9) 87 (10) 38

3 しき... $14 + 5 = 19$

こたえ...19ほん

4 (1) 46 (2) 5, 8 (3) 35

5 (1) 36, 40 (2) 70, 85

【かんがえかた】 (1) かずは, 2とびにならんでいます。

(2) かずは, 5とびにならんでいます。

6 (1) 6 (2) 6 (3) 10 (4) 10

(5) 13 (6) 11 (7) 16 (8) 13

(9) 17 (10) 18

7 (1) 37 (2) 94 (3) 55 (4) 49

(5) 69 (6) 78 (7) 60 (8) 100

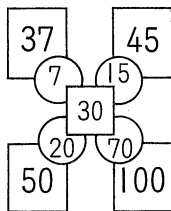
(9) 62 (10) 74

8 しき... $10 + 7 = 17$ , こたえ...17こ

9 しき... $7 + 4 = 11$ , こたえ...11こ

10 しき... $22 + 6 = 28$ , こたえ...28にん

①



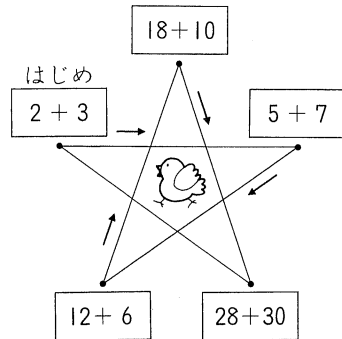
② (1) 6 (2) 3 (3) 7 (4) 30

(5) 42 (6) 60

【かんがえかた】 (1) 4といくつで10になるか, かんがえます。4と6で10。

(2) いくつと15で18になるか, かんがえます。3と15で18。

③



【かんがえかた】  $2 + 3 = 5 \rightarrow 5 + 7 = 12 \rightarrow 12 + 6 = 18 \rightarrow 18 + 10 = 28$

## ② ひきざん

1 (1) 98 (2) 70 (3) 89

【かんがえかた】 (1) 1ずつちいさくなっています。

2 (1) 2 (2) 2 (3) 16 (4) 10

(5) 7 (6) 7 (7) 60 (8) 10

(9) 64 (10) 40

3 しき... $12 - 5 = 7$ , こたえ...7こ

4 (1) 90 (2) 28 (3) 53

5 (1) 20, 14, 6

(2) 49, 47, 40

(3) 61, 54, 39

【かんがえかた】 (2) 一のくらいのかずのおおきをくらべます。

(3) 十のくらいのかずのおおきをくらべます。