

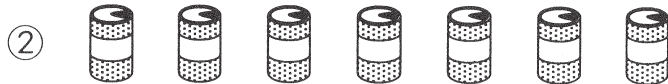
S小1さんすう かくにんテスト 1

(10ぶん)

なまえ	・クラス・	とくてん	50
-----	-------	------	----

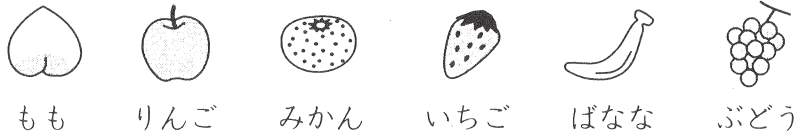
① つぎの もんだいに こたえなさい。(かく4てん)

(1) えの かずを こたえなさい。



(1)	①	こ
	②	こ

(2) くだものが ならんで います。



① ひだりから 3ばんめは なんですか。

② りんごは みぎから なんばんめですか。

(2)	①	
	②	ばんめ

② に あてはまる かずを いれなさい。(かく4てん)

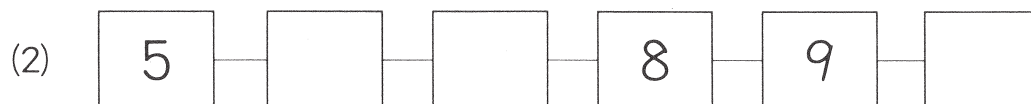
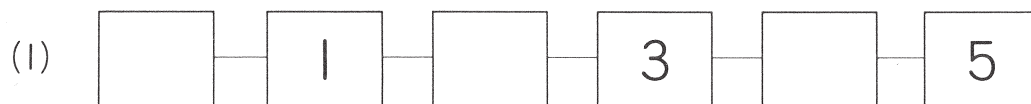
(1) 5より 4 おおきい かずは です。

(2) 9より 3 ちいさい かずは です。

(3) 3と 6で に なります。

(4) と 2で 7に なります。

③ に あてはまる かずを いれなさい。(かく3てん)



S小1さんすう かくにんテスト 2

(10ふん)
















な ま え	・クラス・		と く て ん
			50

① つぎの たしざんを しなさい。(かく4てん)

- (1) $1 + 2$
- (2) $6 + 3$
- (3) $5 + 0$
- (4) $8 + 2$

(1)	
(2)	
(3)	
(4)	

② あわせると いくつに なりますか。(かく4てん)

- (1)       
- (2)        

(1)		こ
(2)		つ

③ つぎの もんだいに こたえなさい。(かく4てん)

(1) こうえんで こどもが 4にん あそんで いました。あとで 5にん きました。こどもは みんなで なんにんに なりましたか。

しき	こたえ
	にん

(2) あめが 7こ あります。3こ もらいました。あめは なんこに なりましたか。

しき	こたえ
	こ

④ こたえが おなじに なる かあどを せんで むすびなさい。(かく5てん)

$3 + 4$	•	•	$6 + 2$
$1 + 7$	•	•	$2 + 5$

S小1さんすう かくにんテスト 3

(10ぶん)

な ま え	・クラス・		と く て ん	50

① つぎの ひきざんを しなさい。(かく4てん)

(1) $5 - 2$

(2) $8 - 3$

(3) $4 - 0$

(4) $10 - 7$

(1)	
(2)	
(3)	
(4)	

② ちがいは いくつですか。(かく4てん)



(1)		こ
(2)		こ

③ つぎの もんだいに こたえなさい。(かく4てん)

(1) とま도가 7こ あります。4こ たべました。とまとは なんこ のこって いますか。

しき	こたえ
	こ

(2) おみせで きゅうりを 10ほん うって いました。6ほん うれまし た。きゅうりは なんほん のこって いますか。

しき	こたえ
	ほん

④ に あてはまる すうじを こたえなさい。(かく5てん)

(1) $8 - \square = 4$

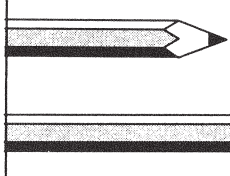

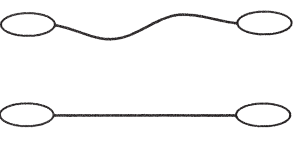
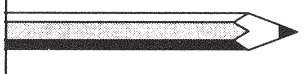


(2) $\square - 3 = 6$

S小1さんすう かくにんテスト 4





(10ぶん)

なまえ		・クラス・	とくてん	50
-----	--	-------	------	----

① ながい ほうに ○を つけなさい。(かく5てん)

(1)	(2)	(3)
		
()	()	()
		
()	()	()

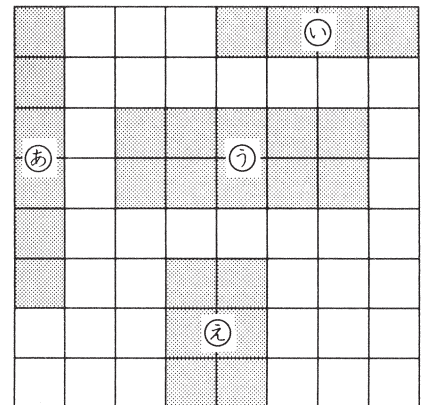
② みずが おおく はいる ほうに ○を つけなさい。(かく5てん)

(1)	(2)
	
()	()
	
()	()



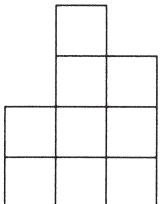
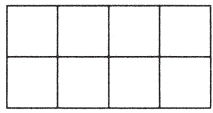
③ つぎの もんだいに こたえなさい。(かく5てん)

- (1) いちばん ながいのは どれですか。
- (2) いちばん みじかいのは どれですか。
- (3) おなじ ひろさの ものは どれと どれですか。

(1)		(2)		(3)	
					と



④ せまい ほうに ○を つけなさい。(かく5てん)


(1)	()	()	(2)	()	()
					

S小学生用 かくにんテスト 5

(10ぶん)

なまえ	・クラス・		とくてん	50

① いくつ ありますか。(かく4てん)



(1)	
(2)	

② に あてはまる かずを いれなさい。(かく4てん)

(1) 10と 3で

(2) 18は と 8

(3) 7 9 10 12

(4) 15 16 18 19

③ つぎの かずを こたえなさい。(かく4てん)

(1) 10より 9 おおきい かず

(2) 16より 4 ちいさい かず

(1)	
(2)	

④ おおきい じゅんに かずを ならべなさい。(かく5てん)

(1) 8 14

(2) 13 20 17

S小1さんすう かくにんテスト 6

(10ぶん)

な ま え	・クラス・		と く て ん	50

① つぎの たしざんを しなさい。(かく4てん)

(1) $10 + 2$

(2) $7 + 11$

(3) $14 + 3$

(4) $12 + 8$

(1)	
(2)	
(3)	
(4)	

② つぎの もんだいに こたえなさい。(かく4てん)

(1) ながい えんぴつが 6ほん、みじかい えんぴつが 10ほん あります。えんぴつは あわせて なんほん ありますか。

しき	こたえ ほん
----	-----------

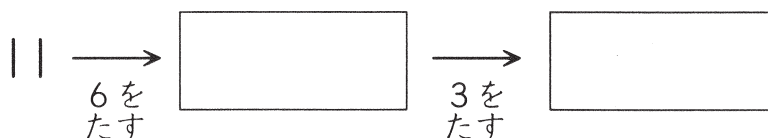
(2) あきこさんは 15さいです。おねえさんは あきこさんより 4さい とうえです。おねえさんは なんさいですか。

しき	こたえ さい
----	-----------

(3) かあどが 13まい あります。7まい もらいました。かあどは ぜんぶで なんまい ありますか。

しき	こたえ まい
----	-----------

③ □ に あてはまる かずを いれなさい。(かく5てん)



S小1さんすう かくにんテスト 7

(10ふん)

な ま え	・クラス・		と く て ん	50

① つぎの ひきざんを しなさい。(かく4てん)

(1) $13 - 3$

(2) $16 - 10$

(3) $17 - 6$

(4) $19 - 5$

(1)	
(2)	
(3)	
(4)	

② つぎの もんだいに こたえなさい。(かく4てん)

(1) くっきいが 15こ あります。5こ たべました。のこりは なんこで
すか。

しき	こたえ
	こ

(2) ほんが 16さつ あります。ともだちに 4さつ あげました。のこり
は なんさつ ありますか。

しき	こたえ
	さつ

(3) ばすに 18にん のっています。7にん おりました。ばすには なん
にん のっていますか。

しき	こたえ
	にん

③ □ に あてはまる かずを いれなさい。(かく5てん)

(1) $4 + \square = 14$

(2) $\square - 3 = 12$

S小1さんすう かくにんテスト 8

(10.ぶん)

な ま え	・クラス・		と く て ん
			50

① つぎの けいさんを しなさい。(かく3てん)

(1) $3 + 4$

(2) $6 - 2$

(3) $10 + 8$

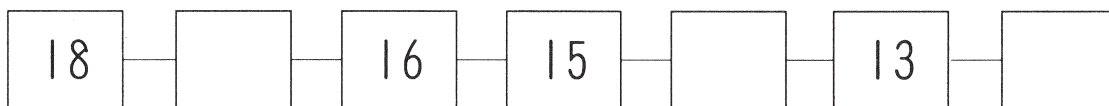
(4) $16 - 5$

(5) $13 + 7$

(1)	
(2)	
(3)	
(4)	
(5)	

② つぎの もんだいに こたえなさい。(1)はかく3てん,(2)・(3)はかく4てん)

(1) □ に あてはまる かずを いれなさい。



(2) あいすくりいむが 17こ あります。4こ たべました。のこりは なんこですか。

しき	こたえ
	こ

(3) さかなを 12ひき つりました。そのあと 7ひき つれました。さかなは ぜんぶで なんびき つれましたか。

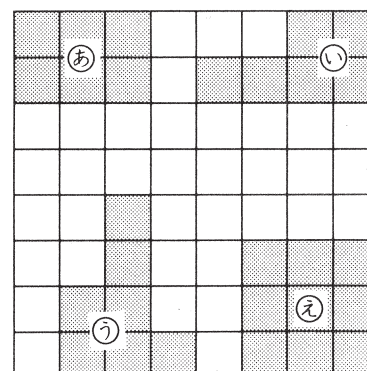
しき	こたえ
	ひき

③ つぎの もんだいに こたえなさい。(かく5てん)

(1) いちばん ひろいのは どれですか。

(2) おなじ ひろさなののは どれと どれですか。

(1)		(2)	
			と




S小1さんすう かくにんテスト 1

(10ぶん)

なまえ	・クラス・	とくてん	50
-----	-------	------	----

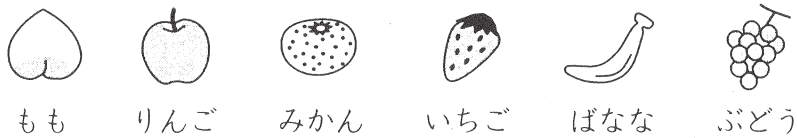
① つぎの もんだいに こたえなさい。(かく4てん)

(1) えの かずを こたえなさい。



(1)	①	4	こ
	②	7	こ

(2) くだものが ならんで います。



① ひだりから 3ばんめは なんですか。

② りんごは みぎから なんばんめですか。

(2)	①	みかん	
	②	5	ばんめ

② に あてはまる かずを いれなさい。(かく4てん)

(1) 5より 4 おおきい かずは です。

(2) 9より 3 ちいさい かずは です。

(3) 3と 6で に なります。

(4) と 2で 7に なります。

③ に あてはまる かずを いれなさい。(かく3てん)



S小1さんすう かくにんテスト 2

(10ふん)





な ま え	・クラス・	と く て ん	50

① つぎの たしざんを しなさい。(かく4てん)

- (1) $1 + 2$
- (2) $6 + 3$
- (3) $5 + 0$
- (4) $8 + 2$

(1)	3
(2)	9
(3)	5
(4)	10

② あわせると いくつに なりますか。(かく4てん)

- (1)  
- (2)  

(1)	7	こ
(2)	8	つ

③ つぎの もんだいに こたえなさい。(かく4てん)


(1) こうえんで こどもが 4にん あそんで いました。あとで 5にん きました。こどもは みんなで なんにんに なりましたか。

しき	$4 + 5 = 9$	こたえ	9	にん
----	-------------	-----	---	----

(2) あめが 7こ あります。3こ もらいました。あめは なんこに なりましたか。

しき	$7 + 3 = 10$	こたえ	10	こ
----	--------------	-----	----	---

④ こたえが おなじに なる かあどを せんで むすびなさい。(かく5てん)



S小1さんすう かくにんテスト 3

(10ぶん)

な ま え	・クラス・		と く て ん	50

① つぎの ひきざんを しなさい。(かく4てん)

(1) $5 - 2$

(2) $8 - 3$

(3) $4 - 0$

(4) $10 - 7$

(1)	3
(2)	5
(3)	4
(4)	3

② ちがいは いくつですか。(かく4てん)



(1)	1	こ
(2)	2	こ

③ つぎの もんだいに こたえなさい。(かく4てん)

(1) とま도가 7こ あります。4こ たべました。とまとは なんこ の こって いますか。

しき	$7 - 4 = 3$	こたえ	3	こ
----	-------------	-----	---	---

(2) おみせで きゅうりを 10ほん うって いました。6ほん うれまし た。きゅうりは なんほん のこって いますか。

しき	$10 - 6 = 4$	こたえ	4	ほん
----	--------------	-----	---	----

④ に あてはまる すうじを こたえなさい。(かく5てん)

(1) $8 - \boxed{4} = 4$







(2) $\boxed{9} - 3 = 6$

S小1さんすう かくにんテスト 4





(10ぶん)

なまえ	・クラス・	とくてん	50
-----	-------	------	----

① ながい ほうに ○を つけなさい。(かく5てん)

(1)	(2)	(3)
 ()	 (○)	 (○)
 (○)	 ()	 ()

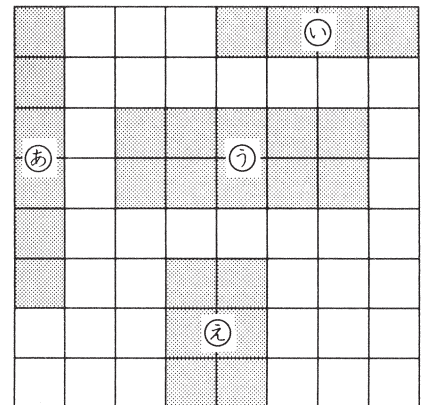
② みずが おおく はいる ほうに ○を つけなさい。(かく5てん)

(1)	(2)
()  →	() 
(○)  →	(○) 



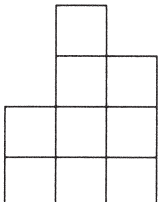
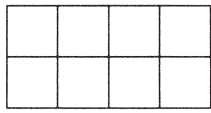
③ つぎの もんだいに こたえなさい。(かく5てん)

- いちばん ながいのは どれですか。
- いちばん みじかいのは どれですか。
- おなじ ひろさの ものは どれと どれですか。

(1)	あ	(2)	え	(3)	あ と え
-----	---	-----	---	-----	-------



④ せまい ほうに ○を つけなさい。(かく5てん)


(1)	(○)	(2)	(○)
			

S小学生用 かくにんテスト 5

(10ぶん)

なまえ	・クラス・		とくてん	50

① いくつ ありますか。(かく4てん)



(1)	12	こ
(2)	17	まい

② □ に あてはまる かずを いれなさい。(かく4てん)

(1) 10と 3で 13

(2) 18は 10 と 8

(3) 7 — 8 — 9 — 10 — 11 — 12

(4) 15 — 16 — 17 — 18 — 19 — 20

③ つぎの かずを こたえなさい。(かく4てん)

(1) 10より 9 おおきい かず

(2) 16より 4 ちいさい かず

(1)	19
(2)	12

④ おおきい じゅんに かずを ならべなさい。(かく5てん)

(1) 8 14

(2) 13 20 17

14 , 8

20 , 17 , 13

S小1さんすう かくにんテスト 6

(10ぶん)

なまえ	・クラス・		とくてん	50

① つぎの たしざんを しなさい。(かく4てん)

(1) $10 + 2$

(2) $7 + 11$

(3) $14 + 3$

(4) $12 + 8$

(1)	12
(2)	18
(3)	17
(4)	20

② つぎの もんだいに こたえなさい。(かく4てん)

(1) ながい えんぴつが 6ほん, みじかい えんぴつが 10ほん あります。えんぴつは あわせて なんほん ありますか。

しき	$6 + 10 = 16$	こたえ	16 ほん
----	---------------	-----	-------

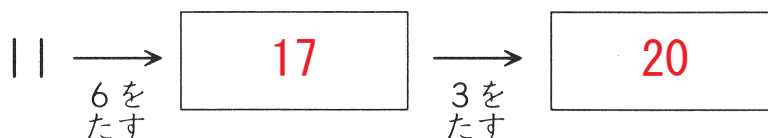
(2) あきこさんは 15さいです。おねえさんは あきこさんより 4さい とうえです。おねえさんは なんさいですか。

しき	$15 + 4 = 19$	こたえ	19 さい
----	---------------	-----	-------

(3) かあどが 13まい あります。7まい もらいました。かあどは ぜんぶで なんまい ありますか。

しき	$13 + 7 = 20$	こたえ	20 まい
----	---------------	-----	-------

③ に あてはまる かずを いれなさい。(かく5てん)



S小1さんすう かくにんテスト 7

(10ふん)

な ま え	・クラス・		と く て ん	50

① つぎの ひきざんを しなさい。(かく4てん)

(1) $13 - 3$

(2) $16 - 10$

(3) $17 - 6$

(4) $19 - 5$

(1)	10
(2)	6
(3)	11
(4)	14

② つぎの もんだいに こたえなさい。(かく4てん)

(1) くっきいが 15こ あります。5こ たべました。のこりは なんこで
すか。

しき $15 - 5 = 10$	こたえ 10 　こ
---------------------	--------------

(2) ほんが 16さつ あります。ともだちに 4さつ あげました。のこり
は なんさつ ありますか。

しき $16 - 4 = 12$	こたえ 12 　さつ
---------------------	---------------

(3) ばすに 18にん のっています。7にん おりました。ばすには なん
にん のっていますか。

しき $18 - 7 = 11$	こたえ 11 　にん
---------------------	---------------

③ □ に あてはまる かずを いれなさい。(かく5てん)

(1) $4 + \boxed{10} = 14$

(2) $\boxed{15} - 3 = 12$

S小1さんすう かくにんテスト 8

(10.ぶん)

な ま え	・クラス・		と く て ん
			50

① つぎの けいさんを しなさい。(かく3てん)

(1) $3 + 4$

(2) $6 - 2$

(3) $10 + 8$

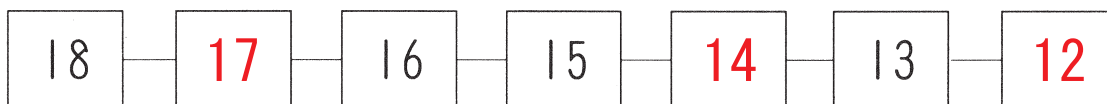
(4) $16 - 5$

(5) $13 + 7$

(1)	7
(2)	4
(3)	18
(4)	11
(5)	20

② つぎの もんだいに こたえなさい。(1)はかく3てん,(2)・(3)はかく4てん)

(1) に あてはまる かずを いれなさい。



(2) あいすくりいむが 17こ あります。4こ たべました。のこりは なんこですか。

しき	$17 - 4 = 13$	こたえ	13	こ
----	---------------	-----	----	---

(3) さかなを 12ひき つりました。そのあと 7ひき つれました。さかなは ぜんぶで なんびき つれましたか。

しき	$12 + 7 = 19$	こたえ	19	ひき
----	---------------	-----	----	----

③ つぎの もんだいに こたえなさい。(かく5てん)

(1) いちばん ひろいのは どれですか。

(2) おなじ ひろさなののは どれと どれですか。

(1)	え	(2)	あ と い
-----	---	-----	-------

