


④ おお 大きさをくらべ

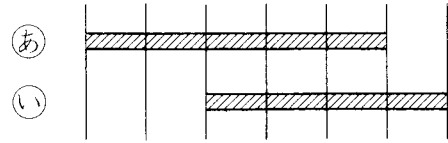
♡まず、きほんの かくにんを しましょう。

1 [長さくらべ①] 長い ほうに ○を つけなさい。

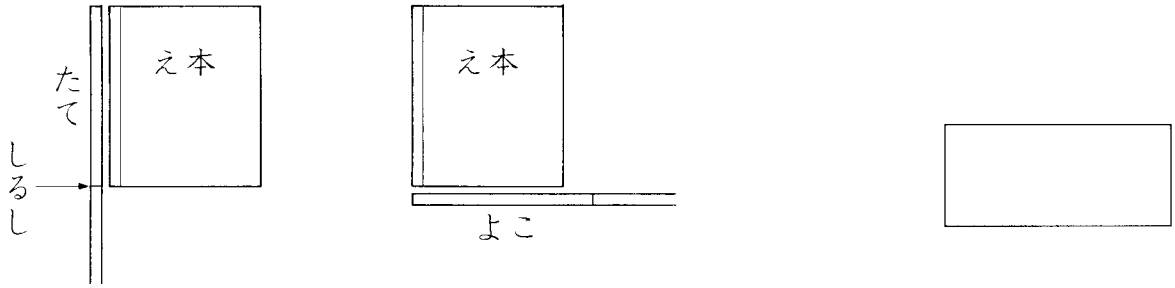
(1)




(2)



2 [長さくらべ②] え本の たてに テープを あてて、しるしを つけました。この テープを え本の よこに あてたら、ずのようになりました。たてと よこでは どちらが 長いですか。



3 [かさくらべ] 多く 入る ほうに ○を つけなさい。

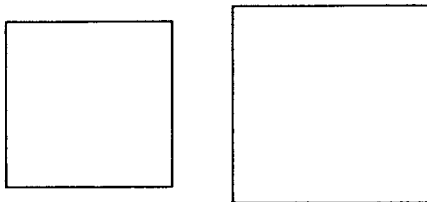


4 [ひろさくらべ] ひろい ほうに ○を つけなさい。

(1)

①

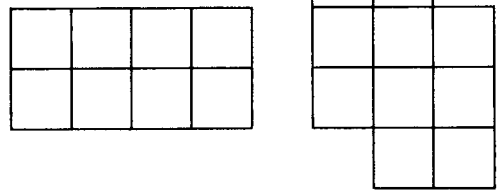
②



(2)

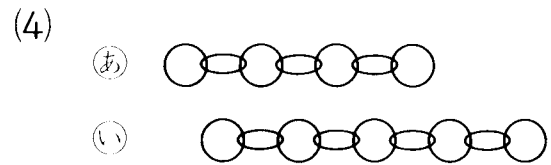

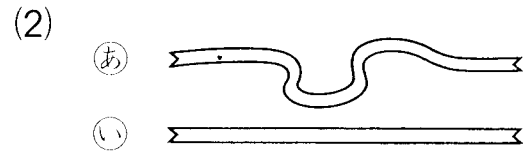
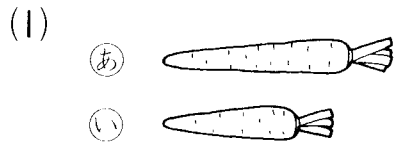
①

②

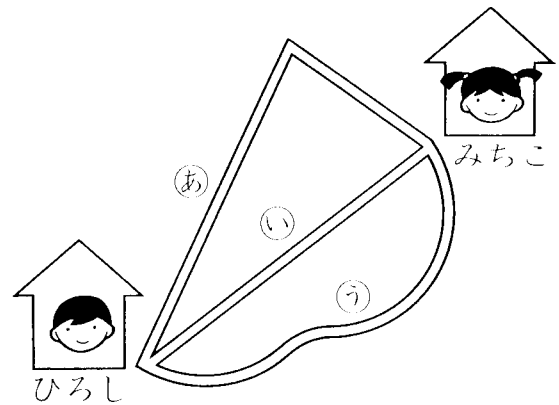


☆つぎに、いろいろな もんだいを ときましょう。

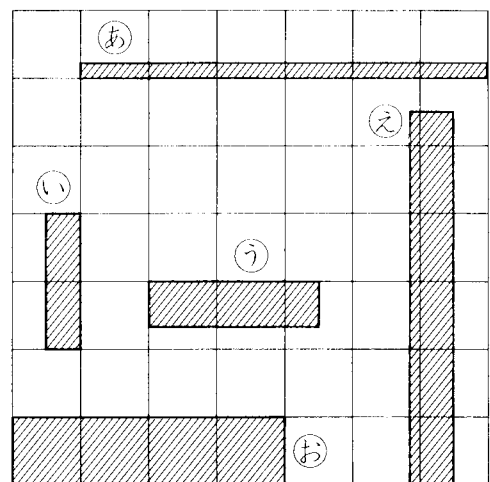
5 みじかい ほうに ○を つけなさい。



6 [ためそう] ひろしさんの いえから みちこさんの いえまでは、あ、い、うの 3つの みちが あります。どの みちが いちばん みじかいですか。

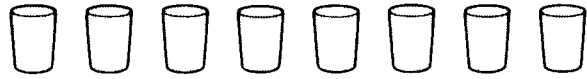


7 [ためそう] 長い じゆんに きごうを かきなさい。



16 大きさをくらべ

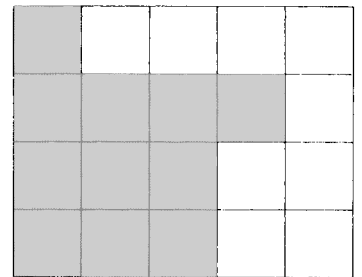
8 [ためそう] やかんと ポットには、コップの 数だけ 水が 入ります。



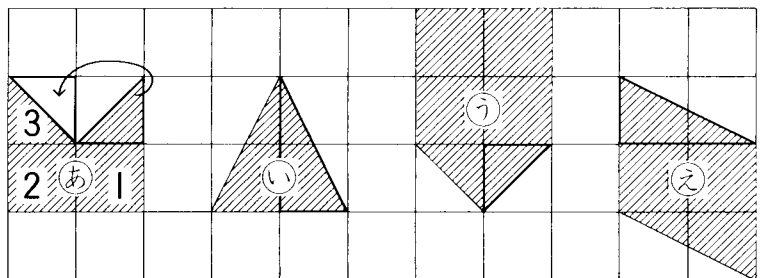
(1) やかんに いっぱいに 入れた 水を、ポットに 入れかえます。水は ぜんぶ 入りますか。

(2) ポットに いっぱいに 入れた 水を、やかんに 入れかえます。水は ぜんぶ 入りますか。

9 黒と 白では どちらが ひろいですか。



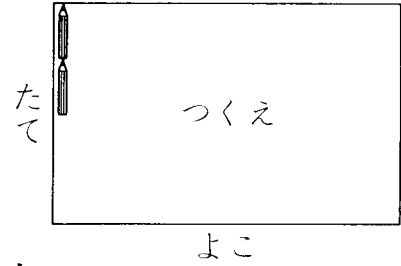
★10 [ためそう] ひろい
じゆんに きごうを か
きなさい。



※それぞれの を になるようにうごかしたとき
できる の数をくらべてみよう

◇じっくり かんがえましょう。

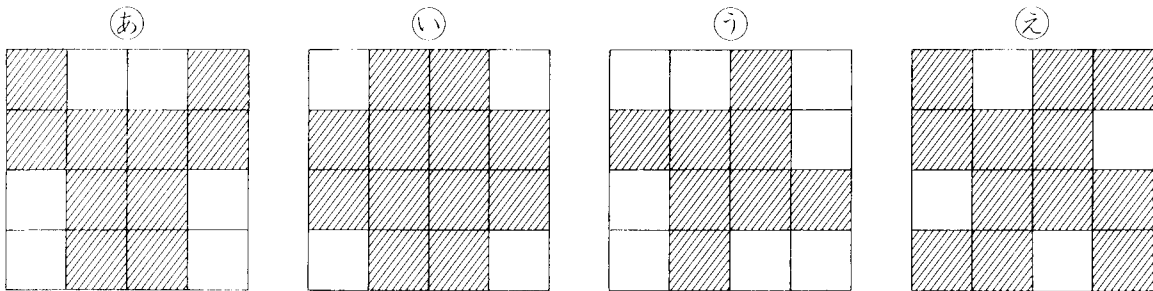
1 つくえの たてと よこの 長さを、えんぴつを つかって はかります。たては えんぴつ 4本ぶん、よこは えんぴつ 7本ぶん ありました。



□に あてはまる 数や ことばを 入れなさい。


「つくえの よこは、えんぴつ □本ぶん □い。」

2 ななめの 線の ひろさが おなじなのは どれと どれですか。



ひろさ □ と □

3 •(a) いっぱいの 水を (i)に 入れると、水が こぼれます。
 •(u) いっぱいの 水を (a)に 入れると、まだ 水が 入ります。



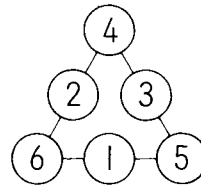
水が いちばん 多く 入るのは どれですか。

□

① たし算と ひき算(1)

- 1 (1) 50 (2) 39 (3) 84
 2 (1) 5 (2) 9 (3) 16 (4) 13
 (5) 12 (6) 15 (7) 26 (8) 58
 (9) 70 (10) 70
 3 しき… $6 + 8 = 14$ 答え…14本
 【かんがえかた】 「あわせて何本」だから、しきはたし算になります。
 4 (1) 40, 60, 70 (2) 46, 50
 【かんがえかた】 (1) 10ずつ、大きくなっています。
 (2) 2ずつ、大きくなっています。
 5 (1) 9, 4 (2) 9, 4 (3) 6
 【かんがえかた】 (2) 94は、90と4を合わせた数で、90は10を9つあつめた数、4は1を4つあつめた数です。
 6 (1) 10 (2) 13 (3) 16 (4) 19
 (5) 20 (6) 80 (7) 100 (8) 57
 (9) 44 (10) 67 (11) 60 (12) 80
 7 (1) 14 (2) 16 (3) 39 (4) 90
 【かんがえかた】 左からじゅんにたしていきます。
 (2) $7 + 6 + 3 = 13 + 3 = 16$
 (3) $2 + 30 + 7 = 32 + 7 = 39$
 8 (1) 16, 26, 36, 46, 56, 66, 76, 86, 96
 (2) 80, 81, 82, 83, 84, 85, 86, 87, 88, 89
 9 しき… $7 + 5 = 12$ 答え…12本
 10 しき… $30 + 3 + 6 = 39$ 答え…39人
 【かんがえかた】 のってきたおきやくをたしていきます。

①



- ② (1) しき… $11 + 7 = 18$
 答え…18人
 (2) 4だめ
 【かんがえかた】 よしみさん
 (2) (1 2 3) (4 5 6) (7 8 9) (10 11 12)
 1だめ 2だめ 3だめ 4だめ
 ③ (1) しき… $10 + 3 + 5 = 18$
 答え…18点
 (2) 1と3, 2と2, 3と1
 【かんがえかた】 (2) $14 - 10 = 4$ (点)
 たして4になる目が出たことになりました。
 ② たし算と ひき算(2)
 1 (1) 59 (2) 90 (3) 75
 2 (1) 3 (2) 4 (3) 8 (4) 6
 (5) 11 (6) 10 (7) 30 (8) 71
 (9) 50 (10) 40
 3 しき… $30 - 10 = 20$ 答え…20人
 【かんがえかた】 のこりをもとめるときは、ひき算になります。
 4 (1) 50, 30, 0 (2) 90, 85, 75
 【かんがえかた】 (1) 10ずつ、小さくなっています。
 (2) 5ずつ、小さくなっています。
 5 (1) 52, 43, 36 (2) 69, 63, 60
 (3) 85, 82, 58
 【かんがえかた】 (1) 十のくらの^{すうじ}数字