

⑥

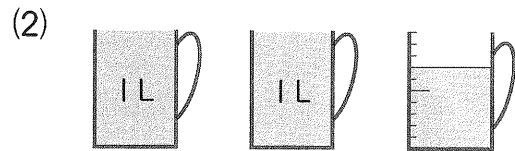

かさ と 長さ

【 学 習 す る こ と 】

- ①かさのはかりかたとたんい
- ②長さのはかりかたとたんい

◎ かさのはかりかたをかくにんしましょう。

1 水のかさは何L 何dLですか。



2 □にあてはまる数は何でしょうか。

(1) 1 L = □ dL

(2) 1 dL = □ mL

(3) 1 L = □ mL

(4) 12 dL = □ L □ dL

3 つぎのかさはどちらが多いでしょうか。

(1) 6 dL, 2 L

(2) 420 mL, 4 dL

4 やかんには15dL, 水とうには8dLの水が入ります。

(1) 水は, あわせて何L 何dL入りますか。

(しき)



15dL



8 dL

答え()

(2) 入る水のちがいは何dLですか。

(しき)

答え()

□————□ **れんしゅう もんだい** □————□

5 水のかさは何L何dLですか。

(1) 1Lますで3ばいと, 1dLますで8はいの水のかさ

(2) 1dLますで23ばいの水のかさ

6 □にあてはまる数は何でしょうか。

(1) $2\text{ L} = \square\text{ dL}$

(2) $34\text{ dL} = \square\text{ L } \square\text{ dL}$

(3) $500\text{ mL} = \square\text{ dL}$

(4) $4\text{ L} = \square\text{ mL}$

7 つぎのかさは, どちらが多いでしょうか。

(1) 8dL, 1L 1dL

(2) 5400mL, 6L

8 つぎの計算をしましょう。

(1) $3\text{ dL} + 8\text{ dL}$

(2) $1\text{ L } 6\text{ dL} + 7\text{ L}$

(3) $1\text{ L } 2\text{ dL} - 4\text{ dL}$

(4) $5\text{ L} - 3\text{ L } 5\text{ dL}$

9 水そうに水が4L 8dL入っています。5dLの水をたしました。水はぜんぶで何L何dLになりますか。

(しき)

答え()

10 牛にゆうが2Lあります。4dLのみました。あと何L何dLのこっていますか。

(しき)

答え()

◎ 長さのはかりかたをかくにんしましょう。

11 つぎの長さの直線をひきましょう。

(1) 4 cm

(2) 2 cm 5 mm

12 つぎの直線の長さをはかりましょう。

(1) _____

(2) _____

13 □にあてはまる数は何でしょうか。

(1) 1 cm = □ mm

(2) 1 m = □ cm

(3) 76 mm = □ cm □ mm

(4) 600 cm = □ m

14 つぎの長さは、どちらが長いでしょうか。

(1) 50 mm, 4 cm

(2) 1 m 3 cm, 130 cm

15 □にあてはまる長さのたんいをかきましょう。

(1) えんぴつのしんのはば… 2 □

(2) どうろのはば… 4 □

16 赤いリボンの長さは3 cm, 青いリボンの長さは5 cm 3 mmです。

(1) 2つのリボンをつないだ長さは、何cm何mmですか。


(しき)

答え()

(2) 2つのリボンの長さのちがいは何cm何mmですか。

(しき)

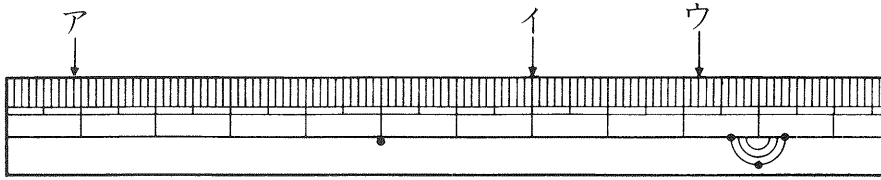
答え()



れんしゅう もんたい



17 下のものさしについて、あどのもんだいに答えましょう。



- (1) 左のはしからア, イ, ウまでの長さは, それぞれどれだけですか。
- (2) アからイまでの長さは何cm何mmですか。
- (3) 左のはしから10cm 6 mmのところをやじるしをかきましょう。

18 にあてはまる数は何でしょうか。

(1) $3\text{ cm } 8\text{ mm} = \boxed{}\text{ mm}$

(2) $1\text{ m } 56\text{ cm} = \boxed{}\text{ cm}$

(3) $207\text{ cm} = \boxed{}\text{ m } \boxed{}\text{ cm}$

(4) $720\text{ mm} = \boxed{}\text{ cm}$

19 つぎの計算をしましょう。

(1) $6\text{ mm} + 5\text{ cm}$

(2) $4\text{ cm } 3\text{ mm} + 6\text{ cm } 8\text{ mm}$

(3) $1\text{ m} - 40\text{ cm}$

(4) $2\text{ m } 50\text{ cm} - 80\text{ cm}$

20 18cmのひもと14cmのひもをむすびました。

むすびめに5cm 5mmつかいました。ぜんたいの長さは何cm何mmになりますか。

(しき)



答え()

5

~

6

おさらい(2)

とく
点

100点

① にあてはまる数は何でしょうか。 <かく5点>

(1) 1日は時間で、1時間は分です。


(2) 長いはりは時間で1まわりします。みじかいはり時間で1まわりします。

② ひろみさんがピアノのおけいこをはじめた時こくと、おわった時こくは、右のようでした。 <かく5点>


(1) はじめた時こくは何時何分ですか。

(2) おけいこをしていた時間は何分間ですか。

はじめた時こく




おわった時こく



③ 午後1時にとうきょう駅をはっしゃする、しんかん線ひかり号は、1時間49分でなごや駅につきます。 <かく5点>

(1) 午後1時は、正午から何時間たった時こくですか。

(2) なごや駅につくのは、午後何時何分ですか。



④ つぎの時こくを答えましょう。 <かく5点>

(1) 午前11時の20分まえの時こく

(2) 午後8時40分の40分あとの時こく

⑤ □にあてはまる数は何でしょうか。

<かく6点>

(1) $24\text{ dL} = \square \text{ L} \square \text{ dL}$

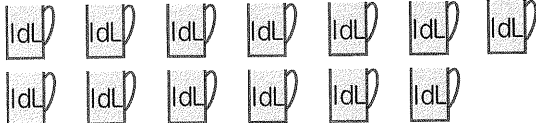
(2) $9\text{ dL} = \square \text{ mL}$

(3) $4\text{ cm } 3\text{ mm} = \square \text{ mm}$

(4) $2\text{ m } 18\text{ cm} = \square \text{ cm}$

⑥ つぎのかさは、どちらが多いでしょうか。

<6点>

① 
 ② 1 L 4 dL

⑦ つぎの長さは、どちらが長いでしょうか。

<6点>

① 
 ② 5 cm

⑧ せきゆストーブに、3 Lのせきゆが入っていました。ストーブをつかったので、せきゆが6 dLにへりました。つかったせきゆは何L何dLですか。

<8点>

(しき)

答え()

⑨ 20 cmのものさしで、つくえのよこの長さをはかったら、4つぶんありました。

(1) つくえのよこの長さは何cmですか。

<かく8点>

(しき)

答え()

(2) 1 mにあと何cmたりませんか。

(しき)

答え()

解答

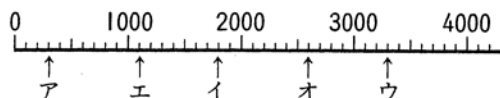
《Sp小3算数》

① 数とたし算・ひき算 (1) 2～5 ページ

- 1 (1)55 (2)67 (3)60 (4)80
 (5)91 (6)42 (7)61 (8)90
- 2 (1)33 (2)30 (3)20 (4)3
 (5)37 (6)43 (7)58 (8)6
- 3 (1)18 (2)42 (3)6 (4)23 (5)50 (6)74
- 4 (1)86 (2)80 (3)44 (4)80
 (5)54 (6)81 (7)92 (8)80
- 5 (1)62 (2)40 (3)30 (4)43
 (5)6 (6)77 (7)37 (8)9
- 6 (1)84 (2)15 (3)77 (4)53
- 7 (1) $34 + 19 = 53$ [答] 53本
 (2) $34 - 19 = 15$ [答] 15本
- 8 (1)1000 (2)10000 (3)724
 (4)6, 3, 9, 2 (5)4200, 4

- 9 (1) > (2) > (3) <

- 10 (1)100 (2)680 (3)1000 (4)2542 (5)9000
- 11 (1)70 (2)60 (3)200 (4)800 (5)4000
- 12 (1)5, 2, 4 (2)72 (3)9999 (4)6500
- 13 (1) > (2) <
- 14 ア…300 イ…1800 ウ…3300



- 15 (1)150 (2)350 (3)1100 (4)60 (5)500
 (6)400 (7)10000 (8)999 (9)4900

② 数とたし算・ひき算 (2) 6～9 ページ

- 1 (1)397
- 2 (1)572 (2)853 (3)1195
- 3 (1)323 (2)1023

- 4 (1)576 (2)682 (3)572 (4)927
 (5)462 (6)404 (7)1185 (8)1020
- 5 (1)579 (2)983 (3)434 (4)308
 (5)804 (6)904 (7)1033 (8)1207
- 6 $136 + 48 = 184$ [答] 184cm
- 7 431
- 8 (1)374 (2)55
- 9 (1)539 (2)147
- 10 (1)141 (2)202 (3)164 (4)386
 (5)599 (6)329 (7)822 (8)776
- 11 (1)423 (2)100 (3)545 (4)293
 (5)179 (6)204 (7)858 (8)799
- 12 $263 - 187 = 76$ [答] 76まい
- 13 $612 - 135 + 128 = 605$ [答] 605人

③ かけ算 (1) 10～13 ページ

- 1 (1)20 (2)18 (3)42 (4)81
- 2 (1)24 (2)49 (3)6 (4)45 (5)14 (6)40
 (7)36 (8)3 (9)32 (10)27 (11)8 (12)28
 (13)15 (14)12 (15)63 (16)16
- 3 (1)3 (2)6 (3)6
- 4 (1)24 (2)10 (3)35 (4)21 (5)14 (6)9
 (7)64 (8)48 (9)3 (10)63 (11)35 (12)18
 (13)40 (14)54 (15)36 (16)12
- 5 (1)四五 (2)四一 (3)四八 (4)四四
- 6 (1)7, 7, 7, 7 (2)8 (3)5
 (4)3 (5)2 (6)3
- 7 (1) $5 + 5 + 5 = 15$ [答] 15本
 (2) $5 \times 3 = 15$ [答] 15本
- 8 $4 \times 6 = 24$ [答] 24人
- 9 $2 \times 3 = 6$ [答] 6dL
- 10 (1) $8 \times 3 = 24$ [答] 24こ
 (2) $3 \times 8 = 24$ [答] 24こ
- 11 (1) $2 + 2 + 2 + 2 + 2 + 2 = 12$ [答] 12こ
 (2) $2 \times 6 = 12$ [答] 12こ