

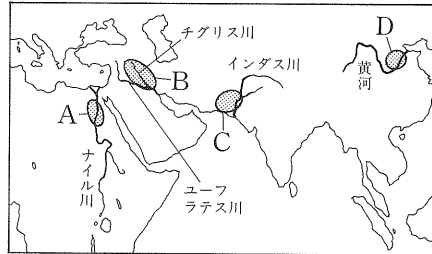
# 5 歴史(1) 古代～平安時代

## 学習の要点

- ・ 人類の生活の始まり
- ・ 世界の古代文明
- ・ 飛鳥・奈良・平安時代

**要点の確認** ……次の各問いに答えなさい。

- 旧石器時代に使われた石器を何というか。
- 今から5～3万年前にヨーロッパにあらわれた、現在の人類の直接の祖先にあたる人類を何というか。
- 右の地図中のA～Dでおこった古代文明を何というか。
- 地図中のA・Bをふくむ地域を何というか。



- ① -----
- ② -----
- ③ A -----  
B -----  
C -----  
D -----
- ④ -----
- ⑤ -----

- 古代ギリシャの各地にできた小さな都市国家を何というか。
- 紀元前5世紀ごろに仏教を開いた人物はだれか。
- 紀元前3世紀に中国を統一した秦の皇帝はだれか。
- 縄目の文様のある土器がつけられた時代を何というか。
- 弥生時代に大陸から伝わった農業は何か。

- ⑥ -----
- ⑦ -----
- ⑧ -----
- ⑨ -----

- 右の年表中の①～⑥にあてはまる語句を答えよ。

年表	できごと
239	①の卑弥呼が中国に使いを送る
478	倭王武が中国に使いを送る ……A
593	②が摂政になる
645	③・中臣鎌足らが蘇我氏をほろぼす …B
672	④の乱
701	⑤が定められる
710	都を奈良に移す ……C
743	⑥が出される
794	都を京都に移す ……D
894	遣唐使を停止する
935	⑦が関東地方で反乱をおこす
1016	⑧が摂政になる ……E
1086	白河上皇が御所で政治を始める ……F
1156	⑨の乱
1159	⑩の乱
1167	⑪が太政大臣になる ……G

- ⑩ a -----  
b -----  
c -----  
d -----  
e -----  
f -----
- ⑪ ① -----  
② -----  
③ -----  
④ -----  
⑤ -----
- ⑫ -----
- ⑬ -----
- ⑭ -----
- ⑮ -----

- 年表中のCでつくられた都を何というか。
- 年表中のDのころ、真言宗を伝えた僧はだれか。
- 年表中のEのころに最盛となった、藤原氏の政治を何というか。

- ⑯ -----
- ⑰ -----
- ⑱ -----

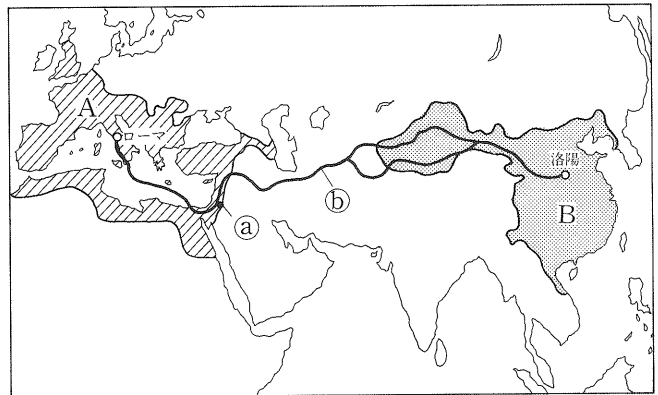
- 年表中のFの政治を何というか。
- 年表中のGの人物が修築したのはどこの港か。
- 聖武天皇のころに栄えた文化を何というか。
- 平安時代におこった貴族の住まいの建築様式を何というか。

- ⑲ -----
- ⑳ -----
- ㉑ -----

**練習問題**

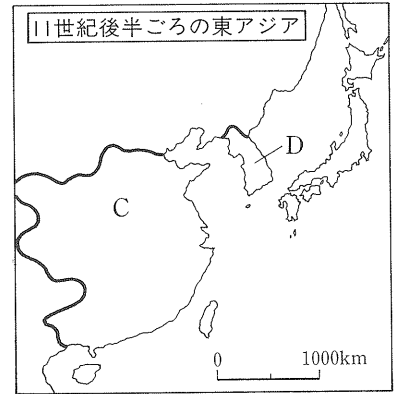
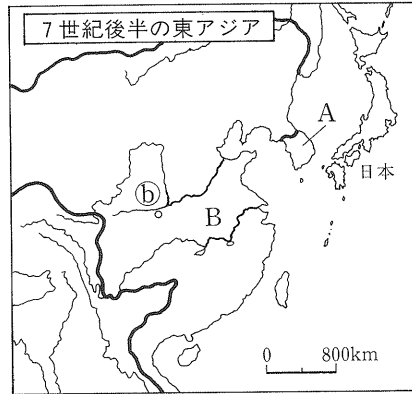
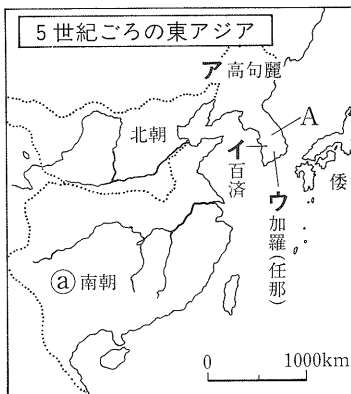
**1** <古代の世界> 2世紀ごろのユーラシアをあらわした右の地図を見て、次の問いに答えなさい。

- (1) 地図中のA・Bの国名を答えなさい。  
A ( ) B ( )
- (2) 地図中の①で生まれた人物の教えをもとにおこり、4世紀末にAの国の国教として認められた宗教を何といいますか。  
( )
- (3) 地図中の②の交通路を何といいますか。  
( )
- (4) Bの国について述べたものを、次のア～エから選び、記号で答えなさい。



- ア 武帝のときに強大になった。      イ 漢字のもとになった甲骨文字が作られた。  
 ウ 始皇帝が万里の長城を築いた。      エ 孔子があらわれ儒教のもとになる教えを説いた。
- (5) 2世紀ごろの日本について述べたものを、次のア～エから選び、記号で答えなさい。 ( )
  - ア 人々はむらをつくらせてたて穴住居に住み、自然をおそれうやまって土偶をつくった。
  - イ 豪族はそれぞれ氏とよばれる集団をつくり、姓をあたえられて、朝廷の仕事を受けもった。
  - ウ 人々は簡単な小屋や岩かげなどに住み、打製石器を使ってナウマン象などをとらえた。
  - エ 人々は水田の近くに定住し、稲の穂をたくわえるための高床の倉庫もつくった。

**2** <東アジアの動き> 次の地図は、5世紀ごろ、7世紀後半、11世紀後半の東アジアを表わしている。これらの地図を見て、あとの問いに答えなさい。



- (1) 地図中のA～Dの国名を答えなさい。  
A ( ) B ( ) C ( ) D ( )
- (2) 大和国家の大王が、地図中の①の王朝の皇帝に使いを送った目的を簡単に書きなさい。  
( )
- (3) 日本に仏教を伝えた国を、地図中のア～ウから選び、記号で答えなさい。 ( )
- (4) 地図中の②はBの国の都で、国際的な大都市として繁栄した。この都市名を答えなさい。  
( )
- (5) 地図中のCの国にあてはまらないものを、次のア～エから選び、記号で答えなさい。 ( )
- ア 朱子学が生まれた。      イ 黄河流域と長江流域を結ぶ大運河が建設された。  
 ウ 禅宗が栄えた。      エ 火薬・羅針盤などがヨーロッパにさきがけて実用化された。

3 <律令国家の成立> 次のA～Eの文を読んで、あとの問いに答えなさい。

- A 摂政となった聖徳太子は、<sup>①</sup>役人の心得を示す法令を定めるとともに、<sup>②</sup>法隆寺を建てた。  
 B <sup>③</sup>中大兄皇子らは、蘇我氏をたおし、新しい政治のしくみをつくる改革を始めた。  
 C 全国を支配するしくみを定めた大宝律令がつくられ、<sup>④</sup>律令国家が成立した。  
 D 広い道路によってごぼんの目のように区画された<sup>⑤</sup>平城京がつくられ、2官8省の役所が置かれた。  
 E 聖武天皇は国ごとに国分寺と国分尼寺を建て、都には<sup>⑥</sup>東大寺を建てて、金銅の大仏をつくった。

- (1) Aのころに栄えた仏教文化を何といますか。 ( )  
 (2) BとCの間におこったできごとを、次のア～エから選び、記号で答えなさい。 ( )  
 ア 藤原純友の乱 イ 壬申の乱 ウ 平治の乱 エ 前九年の役  
 (3) Dのころに発行され、都の市で使われた貨幣を何といますか。 ( )  
 (4) Eのころに栄えた仏教文化を何といますか。 ( )  
 (5) 下線部①を何といますか。 ( )  
 (6) 下線部③と同一人物を、次のア～エから選び、記号で答えなさい。 ( )  
 ア 推古天皇 イ 天武天皇 ウ 天智天皇 エ 桓武天皇  
 (7) 下線部④について、地方の国司にはどのような者が任ぜられたか。次のア～エから選び、記号で答えなさい。 ( )  
 ア 中央の貴族 イ 地方の豪族 ウ 有力な農民 エ 渡来人  
 (8) 下線部⑤に設けられ、地方の産物が売買されたところを何といますか。 ( )  
 (9) 下線部⑥にあり、聖武天皇の遺品が保存されている建物を何といますか。 ( )

4 <平安時代> 次の文を読んで、あとの問いに答えなさい。

律令政治の立て直しをはかるため、<sup>①</sup>都が平安京に移されたが、やがて、<sup>②</sup>他の貴族を退けた藤原氏が勢力を広げ、( ① )とその子<sup>③</sup>頼通のときに最盛となった。このころには国風文化が栄え、<sup>④</sup>宮廷に仕える女官が活躍した。しかし、11世紀の半ばすぎに後三条天皇がみずから政治を行い、それを引きついだ( ② )が院政を開始した。一方、有力な農民から成長した武士は、しだいに天皇の子孫である<sup>⑤</sup>源氏と平氏の武士団などにまとめられていき、院政の時期には院の警備などで重要な役割を果たした。保元の乱ののちに台頭した( ③ )は、武士としてはじめて太政大臣となり、<sup>⑥</sup>中国との貿易をさかんに行った。

- (1) 文中の( )にあてはまる人物名を答えなさい。  
 ① ( ) ② ( ) ③ ( )  
 (2) 下線部④のころ、比叡山に延暦寺を建て、天台宗を広めた僧はだれですか。 ( )  
 (3) 下線部⑤について、藤原氏はどのような方法で勢力を広げたか。「きさき」という語句を用いて、簡単に書きなさい。 ( )  
 (4) 下線部⑥が建てた建築物を、次のア～エから選び、記号で答えなさい。また、この建築物と関係の深い、当時流行した信仰を何といますか。 記号( ) 信仰( )  
 ア 唐招提寺金堂 イ 中尊寺金色堂 ウ 薬師寺東塔 エ 平等院鳳凰堂  
 (5) 下線部①のうち、「源氏物語」を書いた人物はだれですか。 ( )  
 (6) 下線部③の棟梁で、東北地方で2度にわたっておこった戦乱をしずめ、東国に勢力を広げた人物を、次のア～エから選び、記号で答えなさい。 ( )  
 ア 源義家 イ 源義経 ウ 源義仲 エ 源頼朝  
 (7) 下線部⑥について、貿易を進めるために修築された港はどこか。その港がある現在の都市名を答えなさい。 ( )

# 6 歴史(2) 鎌倉～江戸時代前半

➡学習の要点

- ・鎌倉時代・室町時代
- ・安土桃山時代・江戸時代

【要点の確認】……………次の各問いに答えなさい。

① 右の年表中の①～⑤にあてはまる語句を答えよ。

② 年表中の①～⑧にあてはまる人物名を答えよ。

③ 年表中のAの乱ののちに京都に置かれた役所を何というか。

④ 年表中のBをまとめて何というか。

⑤ 年表中のCの翌年から後醍醐天皇が始めた政治を何というか。

⑥ 年表中のDの貿易は、合い札を用いたことから何というか。

⑦ 年表中のEの乱のころから台頭した大名を何というか。

⑧ 年表中のFのときに伝えられた新しい武器は何か。

⑨ 年表中のGによって完成した外交体制を何というか。

⑩ 年表中のHの改革を何というか。

⑪ 年表中のIの人物が結成を奨励した、商工業者の同業組合を何というか。

⑫ 栄西が伝えた禅宗の宗派を何というか。

⑬ 13世紀のはじめにモンゴル民族を統一した人物はだれか。

⑭ 室町時代に村ごとにつくられた新しい自治的な組織を何というか。

⑮ 観阿弥・世阿弥父子によって大成された芸能を何というか。

⑯ 7世紀のはじめにマホメットが開いた宗教を何というか。

⑰ 16世紀にドイツで宗教改革を始めた人物はだれか。

⑱ 年表中の⑤・⑥のころに発達した文化を何というか。

⑲ 「天下の台所」とよばれ、全国の経済の中心であった都市はどこか。

⑳ はいかいは俳諧を芸術として大成した人物はだれか。

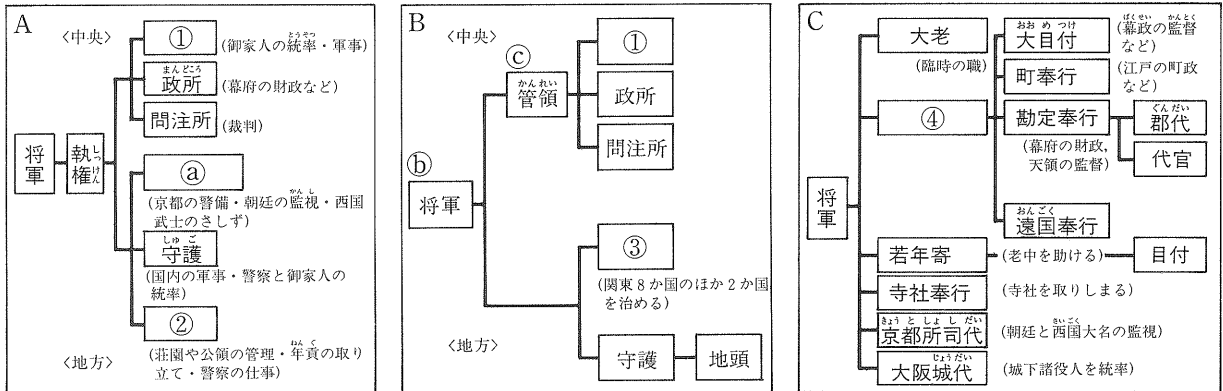
㉑ 本居宣長が大成した学問を何というか。

年表	できごと
1192	〔①〕が征夷大將軍となる
1221	〔a〕の乱……………A
1232	北条泰時が〔b〕を定める
1274	文永の役……………B
1281	弘安の役……………B
1333	鎌倉幕府がほろびる……………C
1338	〔②〕が征夷大將軍となる
1392	〔③〕が南北朝を統一する
1404	明との貿易が始まる……………D
1467	〔c〕の乱……………E
1543	ポルトガル人が種子島に漂着する……………F
1549	〔④〕がキリスト教を伝える
1573	〔⑤〕が室町幕府をほろぼす
1590	〔⑥〕が全国統一を達成する
1600	〔d〕の戦い
1603	〔⑦〕が征夷大將軍となる
1637	〔e〕一揆
1639	ポルトガル船の来航を禁止する……………G
1716	徳川吉宗が政治の改革を始める……………H
1772	田沼意次が老中となる……………I
1787	〔⑧〕が寛政の改革を始める

- ① a \_\_\_\_\_
- b \_\_\_\_\_
- c \_\_\_\_\_
- d \_\_\_\_\_
- e \_\_\_\_\_
- ② ① \_\_\_\_\_
- ② \_\_\_\_\_
- ③ \_\_\_\_\_
- ④ \_\_\_\_\_
- ⑤ \_\_\_\_\_
- ⑥ \_\_\_\_\_
- ⑦ \_\_\_\_\_
- ⑧ \_\_\_\_\_
- ③ \_\_\_\_\_
- ④ \_\_\_\_\_
- ⑤ \_\_\_\_\_
- ⑥ \_\_\_\_\_
- ⑦ \_\_\_\_\_
- ⑧ \_\_\_\_\_
- ⑨ \_\_\_\_\_
- ⑩ \_\_\_\_\_
- ⑪ \_\_\_\_\_
- ⑫ \_\_\_\_\_
- ⑬ \_\_\_\_\_
- ⑭ \_\_\_\_\_
- ⑮ \_\_\_\_\_
- ⑯ \_\_\_\_\_
- ⑰ \_\_\_\_\_
- ⑱ \_\_\_\_\_
- ⑲ \_\_\_\_\_
- ⑳ \_\_\_\_\_
- ㉑ \_\_\_\_\_

練習問題

1 <武士の政権> 次のA～Cの幕府のしくみを表わした図を見て、あとの問いに答えなさい。



- (1) 図中の①～④にあてはまる語句を答えなさい。 ① ( )  
 ② ( ) ③ ( ) ④ ( )
- (2) 次の①～③にあてはまる人物名を答えなさい。  
 ① Aの幕府の第3代の執権で、裁判の基準を示す御成敗式目を制定した。 ( )  
 ② Bの幕府の第3代の将軍で、倭寇を禁じるとともに勘合貿易を開始した。 ( )  
 ③ Cの幕府の第3代の将軍で、武家諸法度に参勤交代を加えた。 ( )
- (3) ②の組織の設置と関係の深い人物を、次のア～エから選び、記号で答えなさい。 ( )  
 ア 後白河上皇 イ 後醍醐天皇 ウ 後鳥羽上皇 エ 中臣鎌足
- (4) ①・③のあとつぎ問題が原因で、京都を中心に11年も続いた戦乱を何といいますか。また、そのころから広がった、下の身分の者が上の身分の者に打ち勝つ風潮を何といいますか。  
 戦乱 ( ) 風潮 ( )
- (5) Cの幕府の時代の次のア～エのできごとを、年代順に並べなさい。 ( → → → )  
 ア 徳川吉宗が目安箱を設置した。 イ 松平定信が旗本の借金を帳消しにした。  
 ウ 新井白石が長崎貿易を制限した。 エ 田沼意次が銅や海産物の輸出を奨励した。

2 <イスラムとヨーロッパの発展> 次のA～Dの文を読んで、あとの問いに答えなさい。

- A メッカの商人 ( ) がイスラム教を開き、その後継者はイスラム帝国を築いた。  
 B 詩人 ( ) がイタリア語で「神曲」を書き、人間性を重視する文化の動きの出発点となった。  
 C スペインの支援を受けた ( ) が、大西洋を横断してカリブ海の島に着いた。  
 D スイスではフランス人の ( ) が宗教改革を進め、勤勉な商工業者に広まっていった。
- (1) 文中の ( ) にあてはまる人物名を答えなさい。 A ( )  
 B ( ) C ( ) D ( )
- (2) AとBの間におこったできごとではないものを、次のア～エから選び、記号で答えなさい。  
 ア 十字軍が始まる イ マルコ・ポーロが元に着く ( )  
 ウ 西ローマ帝国がほろびる エ フランク王国が3つに分かれる
- (3) Bの下線部を何といいますか。 ( )
- (4) Cの下線部によってほろぼされたアメリカ大陸の国で、現在のペルー付近で栄えていた帝国を何といいますか。 ( )
- (5) Dの下線部に対抗したカトリックの側の中心組織を何といいますか。 ( )

3 <産業の発達と民衆の成長> 次の文を読んで、あとの問いに答えなさい。

鎌倉時代には、<sup>かまくら</sup>鎌倉時代には、④農業生産の高まりにともなって手工業もさかんになり、寺社の門前や交通の便利なところには ( ① ) が開かれるようになった。

<sup>むらまち</sup>室町時代になると、土地の生産性を向上させる努力が進められ、16世紀に ( ② ) の栽培が始まったことから手工業もめざましく発達した。また、商業もさかんになり、商人や手工業者は⑥同業組合をつくって、営業の安全をはかった。産業の発達により、③民衆の成長も見られるようになった。

江戸時代に入ると、①兵農分離による身分制度が固まり、⑤農民は農業生産にしばられることになった。幕府や藩は ( ③ ) の開発などを行って耕地の拡大に努めた。商業や手工業もいっそう発達し、⑦交通の整備により、各地に都市が栄えた。18世紀になると農村にも貨幣経済が広がり、生活の苦しかった農民たちは領主や代官に反抗する ( ④ ) をしばしばおこすようになり、都市でも打ちこわしが続発した。一方、農村工業が発達し、⑧作業場で分業によって生産を行う方法もあらわれた。

- (1) 文中の ( ) にあてはまる語句を答えなさい。 ① ( )  
② ( ) ③ ( ) ④ ( )
- (2) 下線部④にあてはまらないものを、次のア～エから選び、記号で答えなさい。 ( )  
ア 西国で二毛作が広がった。 イ 草木の灰を肥料として利用するようになった。  
ウ 耕作に牛馬が利用されるようになった。 エ 脱穀に千歯こきを使うようになった。
- (3) 下線部①を何といますか。 ( )
- (4) 下線部③について、京都で自治を行った裕福な商工業者を何といますか。 ( )
- (5) 下線部④を確立させたのは、前の時代に豊臣秀吉が行った2つの政策である。その2つの政策を答えなさい。 ( ) ( )
- (6) 下線部⑤について、年貢の納入や犯罪の防止などについて、農民に共同の責任を負わせるために幕府がつくらせた組織を何といますか。 ( )
- (7) 下線部⑦について、江戸を起点とする主要道路をまとめて何といますか。 ( )
- (8) 下線部⑧を何といますか。 ( )

4 <鎌倉～江戸時代の文化> 右の略年表を見て、次の問いに答えなさい。

- (1) 略年表中の ( ) にあてはまる語句を答えなさい。  
① ( ) ② ( )
- (2) Aの文化の代表的な建築物を、次のア～エから選び、記号で答えなさい。 ( )  
ア 金閣 <sup>きんかく</sup> イ 銀閣 <sup>ぎんかく</sup> ウ 姫路城 <sup>ひめじじょう</sup> エ 東大寺南大門
- (3) Bの文化の特色を、次のア～エから選び、記号で答えなさい。  
ア 上方を中心に発達した町人文化である。 ( )  
イ 大名や豪商の気風を反映した、豪華・雄大な文化である。  
ウ 禅宗の影響を受けた、簡素で気品のある文化である。  
エ 素朴で力強い文化と優美な文化が融合した文化である。

世紀	できごと
12	
13	鎌倉文化……………A
14	
15	( ① ) 文化
16	桃山文化……………B
17	
18	( ② ) 文化……………C 蘭学のおこり……………D 化政文化……………E
19	

- (4) Cのころに浮世草子とよばれる小説を書いた人物を、次のア～エから選び、記号で答えなさい。  
ア 井原西鶴 <sup>いはらさいかく</sup> イ 関孝和 <sup>せきたかかず</sup> ウ 菱川師宣 <sup>ひしかわもろのぶ</sup> エ 近松門左衛門 <sup>ちかまつもんざえもん</sup> ( )
- (5) Dのころに杉田玄白らがオランダ語の人体解剖書を翻訳して出版した書物を何といますか。 ( )
- (6) Eのころにすぐれた風景画の錦絵をえがいた人物を、次のア～エから選び、記号で答えなさい。  
ア 喜多川歌麿 <sup>きたがわうたまろ</sup> イ 曲亭(滝沢)馬琴 <sup>まがてい たきざわ ばきん</sup> ウ 葛飾北斎 <sup>かつしかほくさい</sup> エ 小林一茶 <sup>こばしやいつき</sup> ( )

# 解答

## 《Sp中3社会》

### 1 世界地理(1)

#### 要点の確認

- ①Aユーラシア Bアフリカ C北アメリカ  
②Dインド洋 E太平洋 ③b ④1 ⑤中国  
⑥イスラム教 ⑦石炭 ⑧カースト制度  
⑨H長江<sup>チャンチアン</sup> Iメコン Jナイル Kギニア<sup>チョウコウ</sup>  
⑩生産責任制 ⑪ターチン油田 ⑫経済特区  
⑬N I E S (新興工業経済地域) ⑭タイ  
⑮プランテーション ⑯天然ゴム ⑰砂漠化  
⑱カカオ ⑲アパルトヘイト

#### 練習問題

- 1(1)①アメリカ合衆国, オ  
②オーストラリア, ウ  
③チリ, イ  
④イギリス, エ  
⑤ロシア連邦, ア

(2)9 (3)エ

**解説** (1)①太平洋をはさんで日本と向き合っている。②経度がほぼ同じなので日本とは時差がほとんどない。南半球にあるので日本とは季節が逆になっている。③南アメリカ大陸の太平洋岸にある国。④ヨーロッパにある島国。⑤国土面積は日本の約45倍もある。

2(1)Aア Bイ (2)①イ ②ア ③ウ

**解説** (1)Aは熱帯, Bは乾燥帯である。気候帯は、赤道から北極に向かって、熱帯→乾燥帯・温帯→冷帯(亜寒帯)→寒帯の順に並ぶ。

(2)①雨が極端に少ない気候の地域で、水を引くための地下水路が見られる。②モンゴルの人々は、たけの短い草のはえる草原で羊などを放牧しながらくらししてきたが、近年は定住化が進む。テントは「ゲル」とよばれている。

3(1)イ (2)環太平洋造山帯

(3)①ウ ②ア ③エ

(4)aエ bア cウ dイ (5)ウ

**解説** (1)Xはアルプス=ヒマラヤ造山帯。

(3)①ア冷帯(亜寒帯), イ温帯, ウ乾燥帯, エ熱帯, オ寒帯の気候帯の特色を示す。(5)Aアメリカ合衆国, Bエチオピア, Cイギリスを示している。

4(1)①イ ②オ ③一人っ子 (2)c, 長江

(3)(例)自由市場で販売し、自分の収入にできる。(4)石炭 (5)イ (6)郷鎮企業

(7)①エ, ホンコン ②ア, ペキン

③イ, シャンハイ

(8)①B ②A ③A ④B

**解説** (1)③一人っ子政策は、家庭に子どもは一人までが望ましいとして政府がすすめている政策。(3)生産責任制は、農民の生産意欲の向上をねらった政策。(4)フーシュン、カイロワンなどの炭田がある。(7)①ホンコンでは、返還後50年間は資本主義のしくみが続けられることになっている。

5(1)①モンスーン(季節風) ②ア

(2)華人(華僑) (3)①E, インドネシア

②B, タイ ③C, マレーシア

④A, ベトナム ⑤D, シンガポール

(4)天然ゴム (5)Bウ Cイ Eア

**解説** (1)夏にふく海からのモンスーンのために雨季となり、稲作がさかんに行われる。

(2)かつての華僑は、現在は各国に定住して華人とよばれる。(3)①イスラム教徒が多い。この国から東ティモールが独立した。④冷戦を背景に、アメリカなどが介入して戦争が続いた。

(4)プランテーションで栽培されていた。

(5)ア機械類の割合が低く、工業化がおくれている。イ機械類の割合が高い。ウ魚介類の輸出が特色となっている。